



เฉลิมพระเกียรติ โครงการจัดทำสื่อ ๒๐ พรรษา  
สมเด็จพระเทพรัตนราชสุดาฯ สยามบรมราชกุมารี

**ชุดกิจกรรมการเรียนรู้ (สำหรับนักเรียน)**

**ระดับพัฒนา**

**กลุ่มสาระการเรียนรู้คณิตศาสตร์**

**หน่วยการเรียนรู้ที่ ๘**

**เงิน**

**ชั้นประถมศึกษาปีที่ ๑-๓**



สำนักงานโครงการสมเด็จพระเทพรัตนราชสุดาฯ สยามบรมราชกุมารี  
สำนักงานคณะกรรมการการศึกษาขั้นพื้นฐาน สถาบันส่งเสริมการสอนวิทยาศาสตร์และเทคโนโลยี





# สารบัญ

เรื่อง

หน้า

---

แบบฝึกหัด 2.1	1
แบบฝึกหัด 2.2	2
แบบฝึกหัด 2.3	5
แบบฝึกหัด 2.4	8
แบบฝึกหัด 2.5	10
แบบฝึกหัด 2.6	12





แบบฝึกหัด 2.1

เขียน ✓ ได้รูปเหรียญที่มีค่าน้อยกว่า

<p>1</p>  <p>.....</p>	<p>2</p>  <p>.....</p>
<p>3</p>  <p>.....</p>	<p>4</p>  <p>.....</p>
<p>5</p>  <p>.....</p>	<p>6</p>  <p>.....</p>
<p>7</p>  <p>.....</p>	<p>8</p>  <p>.....</p>
<p>9</p>  <p>.....</p>	<p>10</p>  <p>.....</p>
<p>11</p>  <p>.....</p>	<p>12</p>  <p>.....</p>



## แบบฝึกหัด 2.2

### ตอบคำถาม

1 เงินเหรียญชนิดใดมีค่าน้อยที่สุด

.....  
.....

2 เงินเหรียญชนิดใดมีค่ามากที่สุด

.....  
.....

3 ธนบัตรชนิดใดมีค่าน้อยที่สุด

.....  
.....

4 ธนบัตรชนิดใดมีค่ามากที่สุด

.....  
.....

5 ธนบัตรหนึ่งร้อยบาท 1 ฉบับ มีค่าเท่ากับธนบัตรห้าสิบบาทกี่ฉบับ

..... ฉบับ

6 ธนบัตรยี่สิบบาท 1 ฉบับ มีค่าเท่ากับเหรียญสองบาทกี่เหรียญ

..... เหรียญ



หน่วยที่ ๘

เงิน

7 ธนบัตรหนึ่งพันบาท 1 ฉบับ มีค่าเท่ากับธนบัตร  
หนึ่งร้อยบาทกี่ฉบับ  
.....  
..... ฉบับ

8 เหรียญห้าบาท 1 เหรียญ มีค่าเท่ากับเหรียญ  
ห้าสิบบาทกี่เหรียญ  
.....  
..... เหรียญ

9 เหรียญยี่สิบบาท 2 เหรียญ มีค่าเท่ากับเหรียญ  
ห้าสิบบาทกี่เหรียญ  
.....  
..... เหรียญ

10 เหรียญสิบบาท 1 เหรียญ มีค่าเท่ากับเหรียญสองบาท  
กี่เหรียญ  
.....  
..... เหรียญ

11 ธนบัตรห้าร้อยบาท 1 ฉบับ มีค่าเท่ากับธนบัตร  
หนึ่งร้อยบาทกี่ฉบับ  
.....  
..... ฉบับ

หน่วยที่ ๘

เงิน



ผ. ๒.๒ / ผ.๑

- 12 ธนบัตรหนึ่งร้อยบาท 1 ฉบับ มีค่าเท่ากับธนบัตรยี่สิบบาทกี่ฉบับ

ตอบ ..... ฉบับ

- 13 ธนบัตรห้าสิบบาท 1 ฉบับ มีค่าเท่ากับเหรียญห้าบาทกี่เหรียญ

ตอบ ..... เหรียญ

- 14 เหรียญห้าบาท 4 เหรียญ มีค่าเท่ากับธนบัตรชนิดใด 1 ฉบับ

ตอบ ธนบัตร .....













- 15 เหรียญสิบบาท 5 เหรียญ มีค่าเท่ากับธนบัตรชนิดใด 1 ฉบับ

ตอบ ธนบัตร .....



แบบฝึกหัด 2.3

1 โยงเส้นจับคู่จำนวนเงินที่เท่ากัน

1)		●	
2)		●	
3)		●	
4)		●	
5)		●	
6)		●	



## ๒ โยงเส้นจับคู่จำนวนเงินที่เท่ากัน

1)



2)





3)



4)





### แบบฝึกหัด 2.4

#### 1 เขียนจำนวนเงิน



มีเงินทั้งหมด ..... บาท..... สตางค์



มีเงินทั้งหมด ..... บาท..... สตางค์



มีเงินทั้งหมด ..... บาท..... สตางค์





หน่วยที่ ๘ เงิน



★★ ฝ. ๒.๔ / ฝ.๒

2 เขียนจำนวนเงินใน  และเขียน "มากกว่า" หรือ "น้อยกว่า" หรือ "เท่ากับ" ลงในช่องว่าง



1)

	..... .....	
<input type="text"/> บาท <input type="text"/> สตางค์		<input type="text"/> บาท <input type="text"/> สตางค์



2)

	..... .....	
<input type="text"/> บาท <input type="text"/> สตางค์		<input type="text"/> บาท <input type="text"/> สตางค์

3)

	..... .....	
<input type="text"/> บาท <input type="text"/> สตางค์		<input type="text"/> บาท <input type="text"/> สตางค์

4)

	..... .....	
<input type="text"/> บาท <input type="text"/> สตางค์		<input type="text"/> บาท <input type="text"/> สตางค์



## แบบฝึกหัด 2.5

## เติมคำตอบ

- 1 มินตาซื้ออุปกรณ์กีฬา 687 บาท ให้ธนบัตรหนึ่งพันบาท 1 ฉบับ แก่ร้านค้า มินตาจะได้รับเงินทอนเท่าใด

ตอบ มินตาจะได้รับเงินทอน ..... บาท

- 2 จารูซื้อดินสอสี 1 กล่องราคา 77 บาท จารูจ่ายเงินให้ร้านค้าเป็นธนบัตรหนึ่งร้อยบาท 1 ฉบับ จารูจะได้รับเงินทอนเท่าใด

ตอบ จารูจะได้รับเงินทอน ..... บาท

- 3 เพ็ญซื้อไอศกรีม 1 แท่งราคา 16 บาท กับขนมปัง 1 ห่อราคา 23 บาท ให้ธนบัตรห้าสิบบาท 1 ฉบับแก่ร้านค้า ร้านค้าจะต้องทอนเงินให้เพ็ญเท่าใด

ตอบ ร้านค้าจะต้องทอนเงินให้เพ็ญ ..... บาท

- 4 ศิริซื้อสินค้าชิ้นหนึ่ง แล้วให้ธนบัตรห้าสิบบาท กับธนบัตรยี่สิบบาท อย่างละ 1 ฉบับแก่ผู้ชาย แล้วได้เงินทอน 16 บาท สินค้าชิ้นนั้นราคาเท่าใด

ตอบ สินค้าชิ้นนั้นราคา..... บาท

- 5 จูรีขายตุ๊กตามีตัวหนึ่งราคา 359 บาท จูรีต้องทอนเงินให้ลูกค้าอีก 141 บาท ลูกค้าให้เงินจูรีเท่าใด

ตอบ ลูกค้าให้เงินจูรี..... บาท



หน่วยที่ ๘

เงิน



ผ. ๒.๕ / ผ.๓

- 6 สุธีซื้อเมล็ดพันธุ์พืช 248 บาท สุธีให้ธนบัตรหนึ่งร้อยบาท 3 ฉบับแก่ร้านค้า สุธีจะได้รับเงินทอนเท่าใด

ตอบ สุธีจะได้รับเงินทอน ..... บาท

- 7 พิมลซื้อสมุด 1 ห่อราคา 325 บาท กับดินสอสี 1 กล่อง ราคา 109 บาท ให้ธนบัตรหนึ่งพันบาท 1 ฉบับแก่ร้านค้า ร้านค้าจะต้องทอนเงินให้พิมลเท่าใด

ตอบ ร้านค้าจะต้องทอนเงินให้พิมล ..... บาท

- 8 ดวงตาซื้อเสื้อตัวหนึ่งแล้วจ่ายเงินให้ร้านค้าเป็นธนบัตรหนึ่งร้อยบาท 2 ฉบับกับธนบัตรห้าสิบบาท 1 ฉบับ ร้านค้าทอนเงินให้ดวงตา 15 บาท ดวงตาซื้อเสื้อราคาตัวละเท่าใด

ตอบ ดวงตาซื้อเสื้อราคาตัวละ ..... บาท

- 9 ทัดดาวซื้อยาสีฟัน 1 หลอดราคา 117 บาท ให้ธนบัตรหนึ่งร้อยบาทกับธนบัตรห้าสิบบาท อย่างละ 1 ฉบับ แก่ร้านค้า ทัดดาวจะได้รับเงินทอนเท่าใด

ตอบ ทัดดาวจะได้รับเงินทอน ..... บาท

- 10 พิมพาขายกระเป๋าใบหนึ่งราคา 745 บาท และทอนให้ลูกค้าไป 55 บาท ลูกค้าให้เงินแก่พิมพาเท่าใด

ตอบ ลูกค้าให้เงินแก่พิมพา ..... บาท



## แบบฝึกหัด 2.6

## เติมคำตอบ

- 1 น้ำมันปาล์มราคาขวดละ 42 บาท น้ำมันงาราคาขวดละ 49 บาท น้ำมันปาล์มราคาถูกกว่าน้ำมันงากี่บาท

ตอบ น้ำมันปาล์มราคาถูกกว่าน้ำมันงา ..... บาท

- 2 ใจงามซื้อกรรไกรราคา 54 บาท และซื้อดินสอสีราคา 68 บาท ใจงามซื้อกรรไกรและดินสอสีเป็นเงินเท่าใด

ตอบ ใจงามซื้อกรรไกรและดินสอสีเป็นเงิน ..... บาท

- 3 สีดาคูซื้อตุ๊กตามีราคา 149 บาท สีดาคูให้ธนบัตรห้าร้อยบาท 1 ฉบับแก่ร้านค้า สีดาคูจะได้รับเงินทอนเท่าใด

ตอบ สีดาคูจะได้รับเงินทอน ..... บาท

- 4 น้ำองุ่นราคาขวดละ 72 บาท น้ำองุ่นราคามากกว่าน้ำส้ม 7 บาท น้ำส้มราคาขวดละเท่าใด

ตอบ น้ำส้มราคาขวดละ ..... บาท

- 5 รุจซื้อรถยนต์เด็กเล่นราคา 138 บาท ได้รับเงินทอน 62 บาท รุจให้เงินแก่ร้านค้ากี่บาท

ตอบ รุจให้เงินแก่ร้านค้า ..... บาท





- 6 ก้องต้องการซื้อหนังสือเล่มหนึ่งราคา 58 บาท แต่ก้องมีเงิน อยู่ 39 บาท ก้องต้องหาเงินมาเพิ่มอีกเท่าใดจึงจะซื้อหนังสือเล่มนั้นได้พอดี

ตอบ ก้องต้องหาเงินมาเพิ่มอีก ..... บาท

- 7 นิภามีเงิน 129 บาท นิภามีเงินน้อยกว่าพี 65 บาท พีมีเงินเท่าใด

ตอบ พีมีเงิน ..... บาท

- 8 ปองคุณซื้อหมวก 1 ใบ ราคา 299 บาท และซื้อกระเป๋าอีก 1 ใบ ซึ่งมีราคามากกว่าหมวก 74 บาท ปองคุณซื้อกระเป๋าราคาเท่าใด

ตอบ ปองคุณซื้อกระเป๋าราคา ..... บาท

- 9 แก้มซื้อเสื้อกันฝน 1 ตัว แล้วจ่ายเงินให้ร้านค้าเป็นธนบัตรห้าร้อยบาท 1 ฉบับ แก้มได้เงินทอน 203 บาท แก้มซื้อเสื้อกันฝนตัวละเท่าใด

ตอบ แก้มซื้อเสื้อกันฝนตัวละ ..... บาท

- 10 พ่อจ่ายเงินค่าปุ๋ยมากกว่าค่าเมล็ดพันธุ์พืช 209 บาท ถ้าพ่อจ่ายเงินค่าปุ๋ยไป 965 บาท พ่อจ่ายค่าเมล็ดพันธุ์พืชเท่าใด

ตอบ พ่อจ่ายค่าเมล็ดพันธุ์พืช ..... บาท



หน่วยที่ ๘

เงิน



A large rectangular area with a scalloped border, containing horizontal dashed lines for writing.



หน่วยที่ ๘      เงิน

บันทึก

A large rectangular area with a scalloped border, containing horizontal dashed lines for writing.



หน่วยที่ ๘      เงิน

บันทึก



เฉลิมพระเกียรติ สมเด็จพระเทพรัตนราชสุดาฯ สยามบรมราชกุมารี  
โครงการจัดทำสื่อ ๖๐ พรรษา



เฉลิมพระเกียรติ สมเด็จพระเทพรัตนราชสุดาฯ สยามบรมราชกุมารี  
โครงการจัดทำสื่อ ๖๐ พรรษา

ชุดกิจกรรมการเรียนรู้ (สำหรับนักเรียน)

ระดับพัฒนา

กลุ่มสาระการเรียนรู้คณิตศาสตร์

หน่วยการเรียนรู้ที่ ๘

เงิน

ชั้นประถมศึกษาปีที่ ๑-๓



ชื่อ - นามสกุล.....เลขที่.....

โรงเรียน.....