



เฉลิมพระเกียรติ โครงการจัดทำสื่อ ๒๐ พรรษา  
สมเด็จพระเทพรัตนราชสุดาฯ สยามบรมราชกุมารี

# ชุดกิจกรรมการเรียนรู้ (สำหรับนักเรียน) ระดับพื้นฐาน

กลุ่มสาระการเรียนรู้คณิตศาสตร์

หน่วยการเรียนรู้ที่ ๘

เงิน

ชั้นประถมศึกษาปีที่ ๑-๓



สำนักงานโครงการสมเด็จพระเทพรัตนราชสุดาฯ สยามบรมราชกุมารี  
สำนักงานคณะกรรมการการศึกษาขั้นพื้นฐาน สถาบันส่งเสริมการสอนวิทยาศาสตร์และเทคโนโลยี





# สารบัญ

เรื่อง

หน้า

แบบฝึกหัด 1.1

1

แบบฝึกหัด 1.2

4

แบบฝึกหัด 1.3

7

แบบฝึกหัด 1.4

9

แบบฝึกหัด 1.5

11



The main body of the page is a large, empty white space, likely intended for text or a diagram.





แบบฝึกหัด 1.1

1 จงเติมคำตอบ

1)



มีเหรียญหนึ่งบาท ..... เหรียญ คิดเป็นเงิน ..... บาท

2)



มีเหรียญหนึ่งบาท ..... เหรียญ คิดเป็นเงิน ..... บาท

3)



มีเหรียญหนึ่งบาท ..... เหรียญ คิดเป็นเงิน ..... บาท



4)



มีเหรียญหนึ่งบาท ..... เหรียญ คิดเป็นเงิน ..... บาท

5)



มีเหรียญหนึ่งบาท ..... เหรียญ คิดเป็นเงิน ..... บาท




หน่วยที่ ๘ เงิน

★ ผ. ๑.๑ / ผ.๑

2 เขียนจำนวนเงินใน  และเขียน  ใน  ให้ถูกต้อง

1)




บาท

มากกว่า

น้อยกว่า

เท่ากับ



บาท

2)




บาท

มากกว่า


น้อยกว่า

เท่ากับ



บาท

3)




บาท

มากกว่า


น้อยกว่า

เท่ากับ



บาท

4)




บาท

มากกว่า


น้อยกว่า

เท่ากับ



บาท

5)




บาท

มากกว่า

น้อยกว่า

เท่ากับ















บาท





แบบฝึกหัด 1.2

1 โยงเส้นจับคู่จำนวนเงินที่เท่ากัน

1)		•	
2)		•	
3)		•	
4)		•	
5)		•	
6)		•	







หน่วยที่ ๘ เงิน

★ ฝ. ๑.๒ / ฝ.๒



2) เต็มคำตอบ

1)  2 เหรียญ แลก  ได้ ..... เหรียญ


2)  10 เหรียญ แลก  ได้ ..... เหรียญ


3)  2 เหรียญ แลก  ได้ ..... เหรียญ




4)  10 เหรียญ แลก  ได้ ..... เหรียญ

5)  6 เหรียญ แลก  ได้ ..... เหรียญ



6)  3 เหรียญ กับ  1 เหรียญ  
แลก  ได้ ..... เหรียญ

7)  2 เหรียญ กับ  1 เหรียญ  
แลก  ได้ ..... เหรียญ

8)  5 เหรียญ กับ  10 เหรียญ  
แลก  ได้ ..... เหรียญ

แบบฝึกหัด 1.3

1 โยงเส้นจับคู่จำนวนเงินที่เท่ากัน

1)



27 บาท

2)



20 บาท

3)



30 บาท

4)



13 บาท

5)



41 บาท



2 เขียนจำนวนเงินใน  และเขียน  ใน  ให้ถูกต้อง

1)




บาท

- มากกว่า
- น้อยกว่า
- เท่ากับ



บาท

2)



บาท

- มากกว่า
- น้อยกว่า
- เท่ากับ



บาท

3)



บาท

- มากกว่า
- น้อยกว่า
- เท่ากับ



บาท



แบบฝึกหัด 1.4

เติมคำตอบ

1. จ้ามีเงิน 8 บาท พ่อให้อีก 8 บาท จ้ามีเงินทั้งหมดกี่บาท

ตอบ จ้ามีเงินทั้งหมด ..... บาท

2. แก้วออมเงินวันแรกได้ 9 บาท วันที่สองออมได้อีก 5 บาท  
รวมสองวัน แก้วออมเงินได้กี่บาท

ตอบ รวมสองวันแก้วออมเงินได้ ..... บาท

3. มาลีซื้อดินสอราคา 7 บาท กับยางลบราคา 12 บาท  
มาลีซื้อดินสอและยางลบเป็นเงินกี่บาท

ตอบ มาลีซื้อดินสอและยางลบเป็นเงิน ..... บาท

4. เมื่อบานเอมทำบุญ 6 บาท วันนี้ทำบุญอีก 4 บาท  
รวมสองวันเอมทำบุญเป็นเงินกี่บาท

ตอบ รวมสองวันเอมทำบุญเป็นเงิน ..... บาท

5. ปิงซื้อข้าวผัด 35 บาท และซื้อขนมอีก 12 บาท  
ปิงซื้อข้าวผัดและขนมเป็นเงินกี่บาท

ตอบ ปิงซื้อข้าวผัดและขนมเป็นเงิน ..... บาท



- ๖ แจงมีเงิน 9 บาท แต่แจงมีเงินน้อยกว่าเพชร 6 บาท  
เพชรมีเงินกี่บาท

ตอบ เพชรมีเงิน ..... บาท

- ๗ ปากการามากกว่าสมุด 6 บาท ถ้าสมุดราคา 13 บาท  
ปากการาคากี่บาท

ตอบ ปากการาคา ..... บาท

- ๘ โยซื้อผ้าเช็ดหน้าผืนใหญ่ราคา 62 บาท และผ้าเช็ดหน้า  
ผืนเล็กราคา 35 บาท โยซื้อผ้าเช็ดหน้า 2 ผืนเป็นเงินกี่บาท

ตอบ โยซื้อผ้าเช็ดหน้า ๒ ผืนเป็นเงิน ..... บาท

- ๙ เดชมีธนบัตรห้าสิบบาท และธนบัตรยี่สิบบาท อย่างละ  
1 ฉบับ เดชมีเงินทั้งหมดกี่บาท

ตอบ เดชมีเงินทั้งหมด ..... บาท

- ๑๐ แป้งมันราคาถุงละ 42 บาท แป้งสาลีราคามากกว่าแป้งมัน  
ถุงละ 11 บาท แป้งสาลีราคาถุงละเท่าใด

ตอบ แป้งสาลีราคาถุงละ ..... บาท

แบบฝึกหัด 1.5

เติมคำตอบ

- 1 มดมีเงิน 12 บาท ให้น้องไป 4 บาท มดเหลือเงินกี่บาท

ตอบ มดเหลือเงิน ..... บาท

- 2 ชิมมีเงิน 18 บาท ชิมมีเงินมากกว่าบอม 6 บาท  
บอมมีเงินกี่บาท

ตอบ บอมมีเงิน ..... บาท

- 3 กุ้งมีเงิน 20 บาท เอมีเงิน 14 บาท กุ้งมีเงิน  
มากกว่าเอกี่บาท

ตอบ กุ้งมีเงินมากกว่าเอ ..... บาท

- 4 แมนมีเงิน 87 บาท ซื้อถุงเท้าราคา 25 บาท  
แมนเหลือเงินกี่บาท

ตอบ แมนเหลือเงิน ..... บาท

- 5 ส้มโอ 1 ลูก ราคา 68 บาท แดงโม 1 ลูกราคา 98 บาท  
แดงโมราคาแพงกว่าส้มโอกี่บาท

ตอบ แดงโมราคาแพงกว่าส้มโอ ..... บาท



- 6 เดชามีเงิน 75 บาท น้องมีเงินน้อยกว่าเดชา 23 บาท  
น้องมีเงินกี่บาท

ตอบ น้องมีเงิน ..... บาท

- 7 เอมมีเงินเป็นเหรียญสิบบาท 2 เหรียญ กับเหรียญห้าบาท  
อีก 1 เหรียญ เอมซื้อหนังสือราคา 13 บาท เอมจะเหลือ  
เงินกี่บาท

ตอบ เอมเหลือเงิน ..... บาท

- 8 กิ่งกับเก้มีเงินรวมกัน 97 บาท เป็นเงินของกิ่ง 44 บาท  
จะเป็นเงินของเก้กี่บาท

ตอบ จะเป็นเงินของเก้ ..... บาท

- 9 กล่องข้าวราคา 79 บาท ฉันทมีเงินอยู่ 52 บาท  
ฉันทต้องหาเงินมาเพิ่มอีกกี่บาท จึงจะซื้อกล่องข้าวได้พอดี

ตอบ ฉันทต้องหาเงินมาเพิ่มอีก ..... บาท

- 10 เพ็ญมีเงินเป็นธนบัตรห้าสิบบาท 1 ฉบับ กับธนบัตร  
ยี่สิบบาท 2 ฉบับ นภามีเงินเป็นธนบัตรยี่สิบบาท  
3 ฉบับ กับเหรียญสองบาท 5 เหรียญ ใครมีเงิน  
มากกว่ากัน และมากกว่ากันกี่บาท

ตอบ ..... มีเงินมากกว่า ..... และมากกว่า  
..... บาท





เฉลิมพระเกียรติ สมเด็จพระเทพรัตนราชสุดาฯ สยามบรมราชกุมารี  
โครงการจัดทำสื่อ ๖๐ พรรษา



เฉลิมพระเกียรติ สมเด็จพระเทพรัตนราชสุดาฯ สยามบรมราชกุมารี  
โครงการจัดทำสื่อ ๖๐ พรรษา

**ชุดกิจกรรมการเรียนรู้ (สำหรับนักเรียน)  
ระดับพื้นฐาน**

**กลุ่มสาระการเรียนรู้คณิตศาสตร์**

**หน่วยการเรียนรู้ที่ ๘**

**เงิน**

**ชั้นประถมศึกษาปีที่ ๑-๓**



ชื่อ - นามสกุล.....เลขที่.....

โรงเรียน.....