



เฉลิมพระเกียรติ โครงการจัดทำสื่อ ๒๐ พรรษา  
สมเด็จพระเทพรัตนราชสุดาฯ สยามบรมราชกุมารี

**ชุดกิจกรรมการเรียนรู้ (สำหรับนักเรียน)**

**ระดับก้าวหน้า**

**กลุ่มสาระการเรียนรู้คณิตศาสตร์**

**หน่วยการเรียนรู้ที่ ๗**

**เวลา**

**ชั้นประถมศึกษาปีที่ ๑-๓**



สำนักงานโครงการสมเด็จพระเทพรัตนราชสุดาฯ สยามบรมราชกุมารี  
สำนักงานคณะกรรมการการศึกษาขั้นพื้นฐาน สถาบันส่งเสริมการสอนวิทยาศาสตร์และเทคโนโลยี





# สารบัญ

เรื่อง

หน้า

แบบฝึกหัด 3.1

1

แบบฝึกหัด 3.2

3

แบบฝึกหัด 3.3

7

แบบฝึกหัด 3.4

11





หน่วยที่ ๗

เวลา



ผ. ๓.๑ / ผ.๑

### แบบฝึกหัด 3.1

1 โยงเส้นจับคู่นาฬิกากับเวลาที่ถูกต้อง



5.00 น.



8.00 น.



14.00 น.



20.00 น.



22.00 น.

๒ เติมเข็มนาฬิกาให้ตรงกับเวลาที่กำหนดให้

7 นาฬิกา



13 นาฬิกา



19 นาฬิกา



23 นาฬิกา



24 นาฬิกา





แบบฝึกหัด 3.2

1 เขียนเวลาในช่องว่าง

ตัวอย่าง

กลางวัน 16 นาฬิกา 40 นาที หรือ 16.40 น.

กลางคืน 4 นาฬิกา 40 นาที หรือ 04.40 น.

กลางวัน หรือ

กลางคืน หรือ

กลางวัน หรือ

กลางคืน หรือ

กลางวัน หรือ

กลางคืน หรือ



กลางวัน

หรือ

กลางคืน

หรือ



กลางวัน

หรือ

กลางคืน

หรือ



กลางวัน

หรือ

กลางคืน

หรือ



กลางวัน

หรือ

กลางคืน

หรือ





๒ เติมเข็มนาฬิกาให้ตรงกับเวลาที่กำหนด



08.05 น.



09.10 น.



11.30 น.



21.15 น.



14.20 น.



12.40 น.


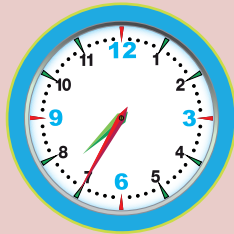




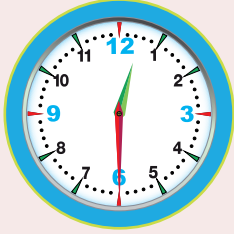



16.50 น.



24.00 น.

3 เขียนเวลาโดยใช้จุดให้ตรงกับเวลาที่กำหนด

กลางวัน	กลางคืน
 <input type="text"/>	 <input type="text"/>
 <input type="text"/>	 <input type="text"/>
 <input type="text"/>	 <input type="text"/>
 <input type="text"/>	 <input type="text"/>



## แบบฝึกหัด 3.3

## 1 อ่านปฏิทินแล้วเติมคำตอบในช่องว่าง

เดือนกันยายน พ.ศ. ๒๕๕๗						
อาทิตย์	จันทร์	อังคาร	พุธ	พฤหัสบดี	ศุกร์	เสาร์
	1	2	3	4	5	6
7	8	9	10	11	12	13
14	15	16	17	18	19	20
21	22	23	24	25	26	27
28	29	30				

- 1) วันแรกของเดือนตรงกับวัน
- 2) วันอาทิตย์แรกของเดือนนี้คือวันที่
- 3) เดือนนี้มี  วัน
- 4) ถ้าวันนี้เป็นวันที่ 22 อีก  วันจะถึงวันหยุด
- 5) ถ้าคุณแม่เกิดวันที่ 9 กันยายน ปีนี้วันเกิดคุณแม่ตรงกับวัน
- 6) เดือนนี้มีวันจันทร์ทั้งหมด  วัน
- 7) ถ้าทุกวันเสาร์คุณแม่พาไปหาคุณยาย เดือนนี้ฉันจะได้ไปหาคุณยาย  วัน
- 8) วันสุดท้ายของเดือนนี้ตรงกับวัน  ที่  เดือน
- 9) เดือนหน้าคือ  มี  วัน
- 10) เดือนนี้ฉันมีวันหยุดทั้งหมด  วัน

๒ อ่านปฏิทินแล้วเติมคำตอบในช่องว่าง

ปฏิทินเดือน ..... ปีพุทธศักราช .....

เดือนเมษายน พ.ศ. ๒๕๕๗						
อาทิตย์	จันทร์	อังคาร	พุธ	พฤหัสบดี	ศุกร์	เสาร์
				1	2	3
4	5	6	7	8	9	10
11	12	13	14	15	16	17
18	19	20	21	22	23	24
25	26	27	28	29	30	

- 1) วันเสาร์ที่ 2 ของเดือนในปฏิทินนี้ตรงกับวันที่
- 2) เดือนนี้มีทั้งหมด  วัน
- 3) วันสุดท้ายของเดือนที่แล้วตรงกับวัน  ที่   
เดือน
- 4) วันแรกของเดือนถัดไปตรงกับวัน  ที่   
เดือน
- 5) เดือนหน้ามีทั้งหมด  วัน
- 6) เดือนนี้มีวันเสาร์และอาทิตย์ทั้งหมด  วัน



หน่วยที่ ๗

เวลา



ผ. ๓.๓ / ผ.๓

### 3) อ่านบันทึกและตอบคำถาม

บันทึกการเดินทางไปเที่ยวอัมพวา  
ของ เด็กชายรักชาติ รักเมืองไทย  
 วันที่ ๑๑ กรกฎาคม ๒๕๕๗

๐๗.๐๐ น.	ออกจากกรุงเทพฯ
๐๘.๐๐ น.	ถึงแม่กลอง
๐๙.๐๐ น.	แวะกราบนมัสการหลวงพ่อบ้านแหลม
๑๑.๓๐ น.	แวะชมค่ายบางกุ้ง ที่วัดบางกุ้ง
๑๒.๐๐ น.	แวะรับประทานอาหารกลางวัน
๑๖.๐๐ น.	ถึงตลาดน้ำอัมพวา
๑๙.๐๐ น.	ล่องเรือดูหิ่งห้อย
๒๑.๐๐ น.	กลับกรุงเทพฯ

1) บันทึกนี้เป็นของใคร

ตอบ .....

2) ผู้บันทึกไปเที่ยวอัมพวาเมื่อไร

ตอบ .....

3) เขาใช้เวลาเดินทางจากกรุงเทพฯ ถึงแม่กลองใช้เวลาเท่าใด

ตอบ .....

4) เขาเดินทางถึงตลาดน้ำอัมพวาเวลาใด

ตอบ .....

5) การเที่ยวครั้งนี้เขาใช้เวลาทั้งหมดกี่ชั่วโมง

ตอบ .....

4 เขียนบันทึกกิจกรรมประจำวันเสาร์และวันอาทิตย์ที่จะถึงนี้

บันทึกกิจกรรมประจำวันของ

วันเสาร์ที่ \_\_\_\_\_ เดือน \_\_\_\_\_ พ.ศ. \_\_\_\_\_

เวลา	กิจกรรม

วันอาทิตย์ที่ \_\_\_\_\_ เดือน \_\_\_\_\_ พ.ศ. \_\_\_\_\_

เวลา	กิจกรรม



หน่วยที่ ๗

เวลา



ผ. ๓.๔ / ผ.๔

## แบบฝึกหัด 3.4

## 1 เติมคำตอบ

1) ฉันใช้เวลาทำการบ้าน 45 นาที พี่ใช้เวลาทำการบ้านมากกว่าฉัน 20 นาที พี่ใช้เวลาทำการบ้านนานเท่าไร

ตอบ

2) แก้วเข้าเรียนชั้นประถมศึกษาปีที่ 1 เมื่ออายุ 5 ปี 10 เดือน แก้วจบชั้นประถมศึกษาปีที่ 6 เมื่ออายุ 11 ปี 8 เดือน แก้วอยู่ในโรงเรียนนานเท่าใด

ตอบ

3) ช่างใช้เวลาปลูกบ้าน 3 เดือน 15 วัน ใช้เวลาทาสีอีก 2 สัปดาห์ รวมช่างใช้เวลานานเท่าใด

ตอบ

4) มะนาวฝักร่องเพลงประกวอดมาแล้ว 12 วัน ต้องฝีกอีกกี่วัน จึงจะครบ 30 วัน

ตอบ

5) ตาลเริ่มสร้างบ้านเดือนมิถุนายน บ้านเสร็จเดือนธันวาคม ตาลใช้เวลาสร้างบ้านนานเท่าไร

ตอบ

๒) หาคำตอบพร้อมแสดงแนวคิด

1) อ้อยอายุ 50 ปี 4 เดือน ออมอายุ 42 ปี 9 เดือน  
อ้อยอายุมากกว่าออมเท่าใด

วิธีทำ

.....  
.....  
.....  
.....

ตอบ

.....

2) ต่อมนั่งรถไฟจากกรุงเทพฯถึงพิษณุโลกใช้เวลา 8 ชั่วโมง  
25 นาที ฟ่านั่งรถยนต์จากกรุงเทพฯถึงพิษณุโลกใช้เวลา  
4 ชั่วโมง 50 นาที ต่อมใช้เวลาเดินทางมากกว่าฟ่าน  
กี่ชั่วโมง กี่นาที

วิธีทำ

.....  
.....  
.....  
.....

ตอบ

.....





หน่วยที่ ๗ เวลา

☆☆☆ ผ. ๓.๔ / ผ.๔

3) แก้วนั่งเครื่องบินจากประเทศไทยไปประเทศญี่ปุ่นใช้เวลา 5 ชั่วโมง 20 นาที และเดินทางกลับประเทศไทย โดยใช้เวลามากกว่าขาไป 55 นาที แก้วใช้เวลาเดินทางกลับประเทศไทยกี่ชั่วโมง กี่นาที

วิธีทำ

.....

.....

.....

.....

ตอบ

.....

4) คุณแม่ออกจากบ้านเวลา 7.20 น. ถึงที่ทำงานเวลา 9.10 น. คุณแม่ใช้เวลาเดินทางนานเท่าใด

วิธีทำ

.....

.....

.....

.....

ตอบ

.....

A large, vertically oriented rectangular area with a light beige background and a decorative, wavy border. It contains horizontal blue dashed lines for writing.



หน่วยที่ ๗

เวลา



A large, vertically oriented rectangular area with a scalloped, torn-paper edge. The interior is a light cream color and contains 18 horizontal blue dashed lines for writing.



บันทึก

A large, vertically oriented rectangular area with a light beige background and a decorative, wavy, torn-paper edge. The interior of this area is filled with horizontal blue dashed lines, providing a guide for handwriting practice.



เฉลิมพระเกียรติ สมเด็จพระเทพรัตนราชสุดาฯ สยามบรมราชกุมารี  
โครงการจัดทำสื่อ ๖๐ พรรษา



เฉลิมพระเกียรติ สมเด็จพระเทพรัตนราชสุดาฯ สยามบรมราชกุมารี  
โครงการจัดทำสื่อ ๖๐ พรรษา

ชุดกิจกรรมการเรียนรู้ (สำหรับนักเรียน)

ระดับก้าวหน้า

กลุ่มสาระการเรียนรู้คณิตศาสตร์

หน่วยการเรียนรู้ที่ ๗

เวลา

ชั้นประถมศึกษาปีที่ ๑-๓



ชื่อ - นามสกุล.....เลขที่.....

โรงเรียน.....