



เฉลิมพระเกียรติ โครงการจัดทำสื่อ ๖๐ พรรษา
สมเด็จพระเทพรัตนราชสุดาฯ สยามบรมราชกุมารี

ชุดกิจกรรมการเรียนรู้ (สำหรับนักเรียน) ระดับก้าวหน้า

กลุ่มสาระการเรียนรู้คณิตศาสตร์

หน่วยการเรียนรู้ที่ ๕

สถิติ

ชั้นประถมศึกษาปีที่ ๑-๓



สำนักงานโครงการสมเด็จพระเทพรัตนราชสุดาฯ สยามบรมราชกุมารี
สำนักงานคณะกรรมการการศึกษาขั้นพื้นฐาน สถาบันส่งเสริมการสอนวิทยาศาสตร์และเทคโนโลยี





สารบัญ

เรื่อง	หน้า
แบบฝึกหัด 3.1	1
แบบฝึกหัด 3.2	3
แบบฝึกหัด 3.3	5





แบบฝึกหัด 3.1

1 ใช้แผนภูมิรูปภาพต่อไปนี้ตอบคำถาม
จำนวนไม้ดอกที่ร้านพันธุ์งามขายได้ในวันหยุดสุดสัปดาห์

ดาวเรือง	เบญจมาศ	กุหลาบ	ทานตะวัน	ดาวกระจาย

กำหนดให้ รูปกระถางไม้ดอก 1 รูป แทนจำนวนไม้ดอก 1 กระถาง

- 1) แผนภูมิรูปภาพนี้ แสดงอะไร
ตอบ
- 2) ร้านพันธุ์งามขายต้นอะไรได้มากที่สุด จำนวนกี่กระถาง
ตอบ
- 3) ร้านพันธุ์งามขายต้นอะไรได้น้อยที่สุด จำนวนกี่กระถาง
ตอบ
- 4) ถ้ากำหนดให้รูปกระถางไม้ดอก 1 รูป แทนจำนวนไม้ดอก 5 กระถาง ร้านพันธุ์งามขายต้นทานตะวันได้กี่กระถาง
ตอบ
- 5) ถ้ากำหนดให้รูปกระถางไม้ดอก 1 รูป แทนจำนวนไม้ดอก 5 กระถาง ร้านพันธุ์งามขายไม้ดอกในวันหยุดสุดสัปดาห์ ได้ทั้งหมดกี่กระถาง *ตอบ*
- 6) ถ้ากำหนดให้รูปกระถางไม้ดอก 1 รูป แทนจำนวนไม้ดอก 5 กระถาง ร้านพันธุ์งามขายต้นดาวเรืองได้มากกว่า ต้นดาวกระจายกี่กระถาง *ตอบ*



2 ใช้แผนภูมิรูปภาพต่อไปนี้ตอบคำถาม

จำนวนเครื่องดื่มที่ร้านชื่นใจขายได้ใน 1 สัปดาห์

วันจันทร์	
วันอังคาร	
วันพุธ	
วันพฤหัสบดี	
วันศุกร์	
วันเสาร์	
วันอาทิตย์	

กำหนดให้ แทนจำนวนเครื่องดื่ม 5 แก้ว

1) แผนภูมิรูปภาพนี้ แสดงอะไร

ตอบ

2) 1 รูป แทนจำนวนเครื่องดื่มกี่แก้ว **ตอบ**

3) วันที่ร้านชื่นใจขายเครื่องดื่มได้มากที่สุด จำนวนกี่แก้ว

ตอบ

4) วันที่ร้านชื่นใจขายเครื่องดื่มได้มากที่สุดกับวันที่ขายได้น้อยที่สุด
ขายได้ ต่างกันกี่แก้ว **ตอบ**

5) วันใดบ้างที่ร้านชื่นใจขายเครื่องดื่มได้เท่ากัน จำนวนกี่แก้ว

ตอบ

6) ตลอดสัปดาห์ร้านชื่นใจขายเครื่องดื่มทั้งหมดกี่แก้ว

ตอบ

7) วันเสาร์และวันอาทิตย์ร้านชื่นใจขายเครื่องดื่มได้กี่แก้ว




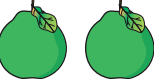

ตอบ



แบบฝึกหัด 3.2

1) **ตอบคำถามต่อไปนี้**

จำนวนผลไม้ที่ป่าแต้วชาย

ส้ม	
แอปเปิ้ล	
มะม่วง	
ส้มโอ	
มังคุด	

กำหนดให้ รูป 1 รูป แทนผลไม้ 2 ผล

1) แผนภูมิรูปภาพนี้ แสดงอะไร

ตอบ

2) ป่าแต้วชายผลไม้กี่ชนิด

ตอบ

3) ป่าแต้วชายผลไม้ชนิดใดมากที่สุด มีจำนวนกี่ผล

ตอบ

4) ป่าแต้วชายผลไม้ชนิดใดน้อยที่สุด มีจำนวนกี่ผล

ตอบ

5) ถ้าเปลี่ยนข้อกำหนดเป็นรูปภาพ 1 รูป แทนผลไม้ 10 ผล
ป่าแต้วชายมะม่วงมากกว่าส้มกี่ผล **ตอบ**






6) ถ้ารูปภาพ 1 รูป แทนผลไม้ 10 ผล ป่าแต้วชายผลไม้
ทั้งหมดกี่ผล **ตอบ**



2) ร้านอร่อยเด็ด ทำซาลาเปาไส้ต่างๆ ในแต่ละวันดังนี้

ไส้เห็ดหอม	130	ลูก
ไส้ถั่วแดง	100	ลูก
ไส้ถั่วดำ	60	ลูก
ไส้ครีม	50	ลูก

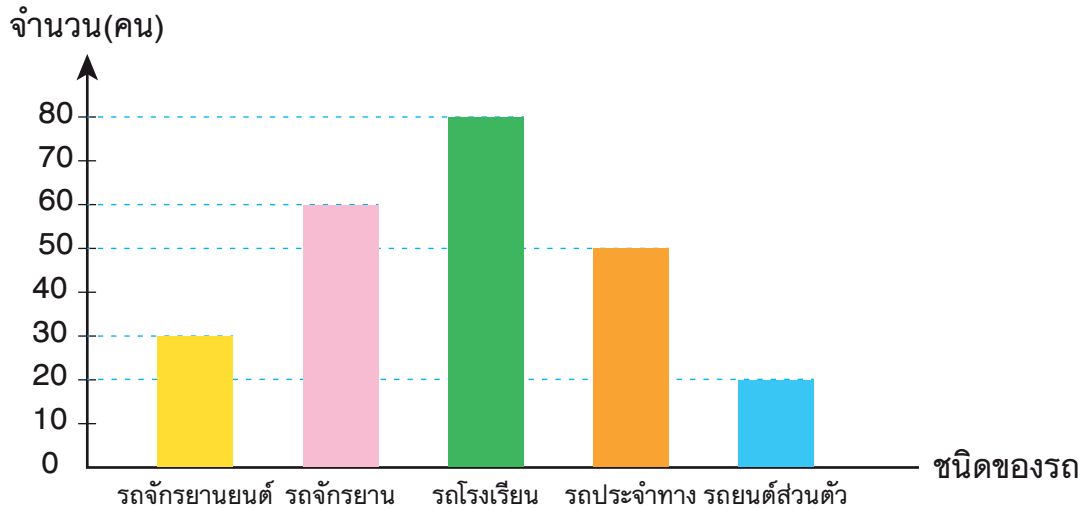
จงใช้ข้อมูลดังกล่าว ตอบคำถามต่อไปนี้

- ถ้าใช้  1 รูป แทนจำนวนซาลาเปา 2 ลูก จะต้องใช้  แทนจำนวนซาลาเปาไส้ถั่วแดงกี่รูป
ตอบ
- ถ้าใช้  1 รูป แทนจำนวนซาลาเปา 10 ลูก จำนวนรูปที่ใช้แทนซาลาเปาไส้เห็ดหอมมากกว่าจำนวนรูปที่ใช้แทนซาลาเปาไส้ถั่วดำกี่รูป
ตอบ
- ถ้าใช้  1 รูป แทนจำนวนซาลาเปา 10 ลูก จะต้องใช้  แทนจำนวนซาลาเปาของร้านอร่อยเด็ดทั้งหมดกี่รูป
ตอบ



แบบฝึกหัด 3.3

1) **ตอบคำถามต่อไปนี้**
จำนวนนักเรียนที่เดินทางมาโรงเรียนด้วยรถชนิดต่าง ๆ



1) แผนภูมิแท่งแสดงอะไร
ตอบ

2) นักเรียนเดินทางด้วยรถชนิดใดมากที่สุด จำนวนกี่คน
ตอบ

3) นักเรียนเดินทางด้วยรถชนิดใต้น้อยที่สุด จำนวนกี่คน
ตอบ

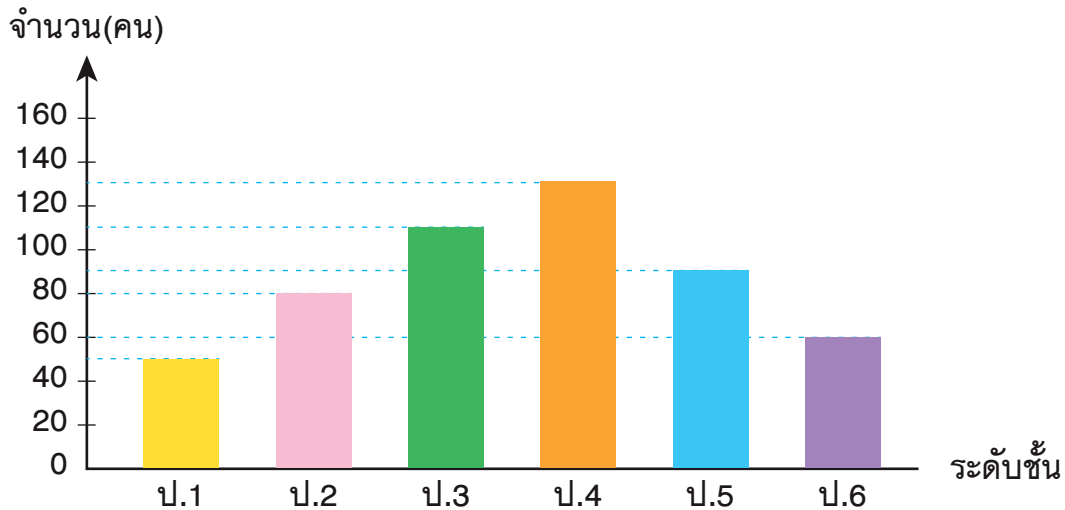
4) นักเรียนเดินทางด้วยรถจักรยานมากกว่านักเรียนที่เดินทางด้วยรถประจำทางกี่คน
ตอบ

5) นักเรียนที่เดินทางด้วยรถโรงเรียนและรถประจำทาง มีจำนวนมากกว่าหรือน้อยกว่านักเรียนที่เดินทางด้วยรถชนิดอื่น และมากกว่าหรือน้อยกว่าอยู่กี่คน
ตอบ



2) ตอบคำถามต่อไปนี้

จำนวนนักเรียนของโรงเรียนบูรณะศาสตร์ ประจำปีการศึกษา 2557



1) แผนภูมิแท่งแสดงอะไร

ตอบ

2) นักเรียนชั้นใดมีจำนวนมากที่สุด

ตอบ

3) นักเรียนชั้นใดมีจำนวนน้อยที่สุด

ตอบ

4) นักเรียนชั้น ป.1 น้อยกว่านักเรียนชั้น ป.6 กี่คน

ตอบ

5) นักเรียนชั้น ป.1 ป.2 และ ป.3 รวมกัน มีจำนวนมากกว่าหรือน้อยกว่านักเรียนชั้น ป.4 ป.5 และ ป.6 และมากกว่าหรือน้อยกว่ากี่คน

ตอบ



หน่วยที่ ๕

สถิติ



A large, vertically oriented rectangular area with a light beige background and a decorative, wavy, torn-paper edge. This area contains 18 horizontal dashed blue lines, providing a space for writing or recording data.



หน่วยที่ ๕

สถิติ

บันทึก

Blank lined writing area for notes.



เฉลิมพระเกียรติ โครงการจัดทำสื่อ ๒๐ พรรษา สมเด็จพระเทพรัตนราชสุดาฯ สยามบรมราชกุมารี



เฉลิมพระเกียรติ โครงการจัดทำสื่อ ๒๐ พรรษา สมเด็จพระเทพรัตนราชสุดาฯ สยามบรมราชกุมารี

ชุดกิจกรรมการเรียนรู้ (สำหรับนักเรียน)

ระดับก้าวหน้า

กลุ่มสาระการเรียนรู้คณิตศาสตร์

หน่วยการเรียนรู้ที่ ๕

สถิติ

ชั้นประถมศึกษาปีที่ ๑-๓



ชื่อ - นามสกุล.....เลขที่.....

โรงเรียน.....