



เฉลิมพระเกียรติ โครงการจัดทำสื่อ ๖๐ พรรษา
สมเด็จพระเทพรัตนราชสุดาฯ สยามบรมราชกุมารี

ชุดกิจกรรมการเรียนรู้ (สำหรับนักเรียน)

ระดับพัฒนา

กลุ่มสาระการเรียนรู้คณิตศาสตร์

หน่วยการเรียนรู้ที่ ๕

สถิติ

ชั้นประถมศึกษาปีที่ ๑-๓



สำนักงานโครงการสมเด็จพระเทพรัตนราชสุดาฯ สยามบรมราชกุมารี
สำนักงานคณะกรรมการการศึกษาขั้นพื้นฐาน สถาบันส่งเสริมการสอนวิทยาศาสตร์และเทคโนโลยี





สารบัญ

เรื่อง	หน้า
แบบฝึกหัด 2.1	1
แบบฝึกหัด 2.2	3
แบบฝึกหัด 2.3	5





แบบฝึกหัด 2.1

1 ใช้แผนภูมิรูปภาพต่อไปนี้ตอบคำถาม

จำนวนไอศกรีมที่ครูแจกให้นักเรียนแต่ละชั้นในวันเด็ก

ป.1	
ป.2	
ป.3	
ป.4	
ป.5	
ป.6	

กำหนดให้  แทนจำนวนไอศกรีม 5 แท่ง

1) แผนภูมิรูปภาพนี้ แสดงอะไร

ตอบ

2) ครูแจกไอศกรีมให้นักเรียนทั้งหมดกี่แท่ง

ตอบ

3) ครูแจกไอศกรีมให้นักเรียนชั้นใดมากที่สุด จำนวนกี่แท่ง

ตอบ

4) ครูแจกไอศกรีมให้นักเรียนชั้นใดน้อยที่สุด จำนวนกี่แท่ง

ตอบ

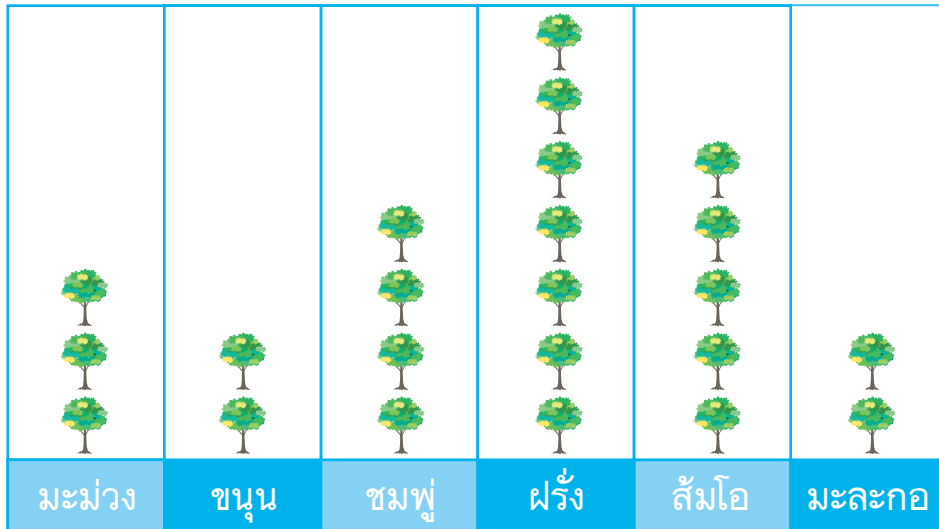
5) ครูแจกไอศกรีมให้นักเรียนชั้น ป.6 น้อยกว่า นักเรียนชั้น ป.3 กี่แท่ง

ตอบ



2 ใช้แผนภูมิรูปภาพต่อไปนี้ตอบคำถาม

จำนวนต้นไม้ในสวนที่ลุงอันปลูก



กำหนดให้  แทนจำนวนต้นไม้ 5 ต้น

1) แผนภูมิรูปภาพนี้ แสดงอะไร

ตอบ

2)  1 รูป แทนจำนวนต้นไม้กี่ต้น

ตอบ

3) ลุงอันปลูกต้นไม้กี่ชนิด มีจำนวนทั้งหมดกี่ต้น

ตอบ

4) ลุงอันปลูกต้นไม้ชนิดไหนน้อยที่สุด มีจำนวนกี่ต้น

ตอบ

5) ลุงอันปลูกมะม่วงน้อยกว่าส้มโอกี่ต้น

ตอบ

6) ลุงอันปลูกต้นไม้ชนิดไหนมากเป็นอันดับที่ 3 และมีจำนวนกี่ต้น






ตอบ



แบบฝึกหัด 2.2

1) ตอบคำถามต่อไปนี้

จำนวนต้นไม้ที่ปลูกอยู่ในบริเวณโรงเรียน

ต้นแก้ว	
ต้นดาวเรือง	
ต้นชบา	
ต้นเข็ม	
ต้นโมก	

กำหนดให้  แทนจำนวนต้นไม้ 10 ต้น

1) แผนภูมิรูปภาพนี้ แสดงอะไร

ตอบ

2) ต้นไม้ที่ปลูกในบริเวณโรงเรียนมีกี่ชนิด อะไรบ้าง

ตอบ

3) ต้นไม้ชนิดใดที่ปลูกน้อยที่สุด

ตอบ

4) ต้นไม้ชนิดใดที่ปลูกมากที่สุด

ตอบ

5) มีต้นดาวเรืองมากกว่าต้นเข็มกี่ต้น

ตอบ

6) มีต้นชบาน้อยกว่าต้นโมกกี่ต้น

ตอบ



2) ตอบคำถามต่อไปนี้

จำนวนเครื่องเขียนที่ร้านสหกรณ์โรงเรียนขายได้ใน 1 สัปดาห์

				
ดินสอ	ไม้บรรทัด	ยางลบ	สีเทียน	สีไม้

กำหนดให้ รูป 1 รูป แทนจำนวนเครื่องเขียน 10 ชิ้น

1) แผนภูมิรูปภาพนี้ แสดงอะไร

ตอบ

2) เครื่องเขียนที่ร้านสหกรณ์โรงเรียนขายมีกี่ชนิด อะไรบ้าง

ตอบ

3) ร้านสหกรณ์โรงเรียนขายดินสอได้ทั้งหมดเท่าไร

ตอบ

4) ร้านสหกรณ์โรงเรียนขายเครื่องเขียนชนิดใดได้น้อยที่สุด

ตอบ

5) ร้านสหกรณ์โรงเรียนขายยางลบก้อนละ 5 บาท ดินสอแท่งละ 10 บาท ร้านสหกรณ์ขายยางลบได้ น้อยกว่าดินสอกี่บาท

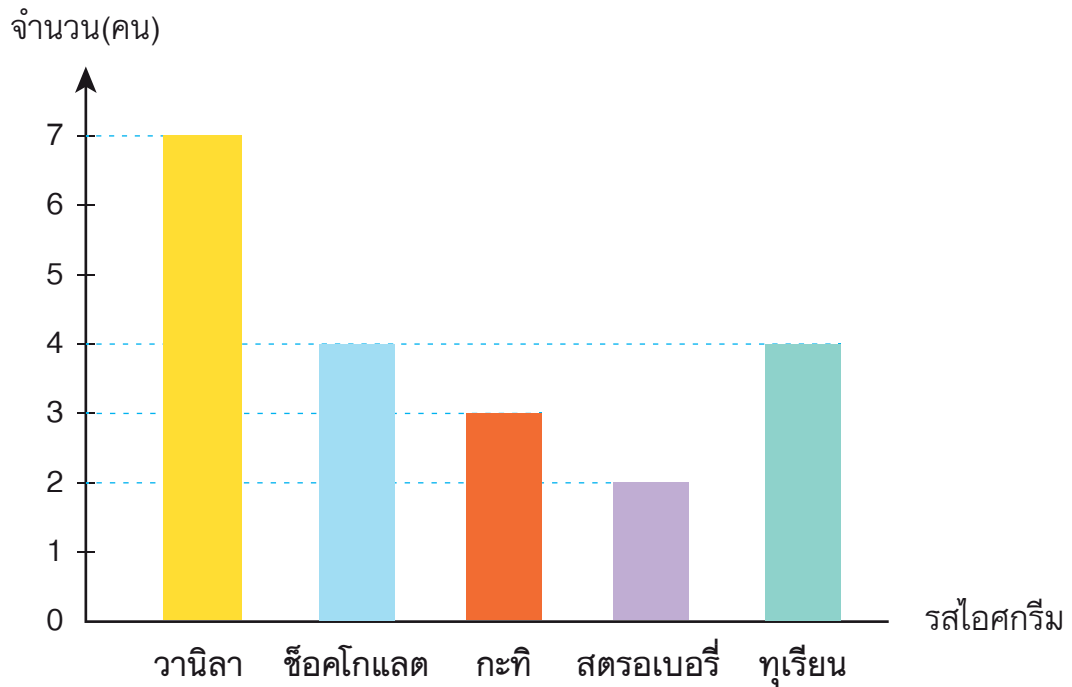
ตอบ



แบบฝึกหัด 2.3

1) ตอบคำถาม

จำนวนนักเรียนที่ชอบไอศกรีมรสต่าง ๆ



1) แผนภูมิแท่งแสดงอะไร

ตอบ

2) นักเรียนชอบไอศกรีมรสใดมากที่สุด จำนวนกี่คน

ตอบ

3) นักเรียนชอบไอศกรีมกะทิหรือทูเรียนมากกว่ากัน และมากกว่ากันอยู่เท่าใด

ตอบ

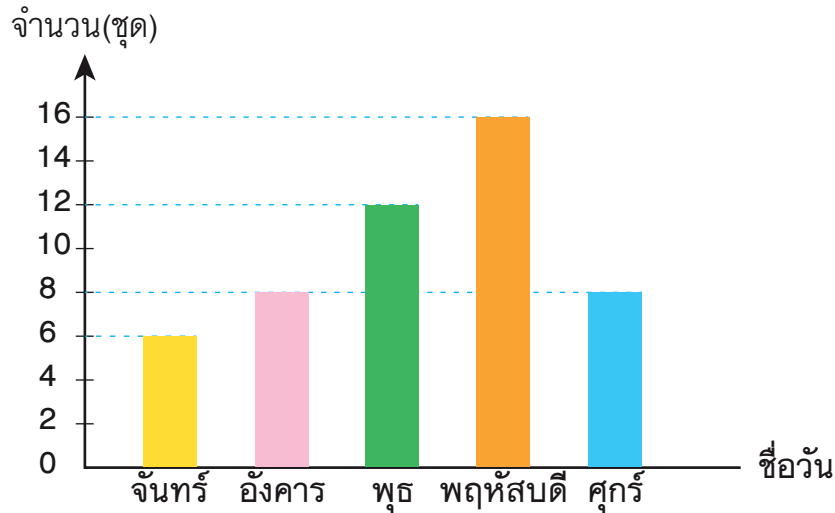
4) นักเรียนชอบไอศกรีมรสใดน้อยที่สุด จำนวนกี่คน

ตอบ



2) **ตอบคำถามต่อไปนี้**

จำนวนชุดนักเรียนที่คุณนำเย็บได้ใน 5 วัน



1) แผนภูมิแท่ง แสดงอะไร

ตอบ

2) วันใดที่คุณนำเย็บชุดนักเรียนได้น้อยที่สุด เป็นจำนวนกี่ชุด

ตอบ

3) วันใดที่คุณนำเย็บชุดนักเรียนได้มากที่สุด เป็นจำนวนกี่ชุด

ตอบ

4) วันใดที่คุณนำเย็บชุดนักเรียนได้จำนวนเท่ากัน เป็นจำนวนกี่ชุด

ตอบ

5) ในวันพุธกับวันศุกร์คุณนำเย็บชุดนักเรียนวันใดได้น้อยกว่า และน้อยกว่ากันอยู่ที่ชุด

ตอบ

6) ตั้งแต่วันจันทร์ถึงวันศุกร์ คุณนำเย็บชุดนักเรียนได้ทั้งหมดกี่ชุด

ตอบ



หน่วยที่ ๕

สถิติ



A large, vertically oriented rectangular area with a light beige background and a decorative, wavy border. It contains 18 horizontal dashed blue lines, providing a space for writing or drawing.



หน่วยที่ ๕

สถิติ



A large, vertically oriented rectangular area with a light beige background and a decorative, wavy border. It contains 18 horizontal dashed blue lines, providing a space for writing or drawing.



เฉลิมพระเกียรติ สมเด็จพระเทพรัตนราชสุดาฯ สยามบรมราชกุมารี
โครงการจัดทำสื่อ ๖๐ พรรษา



เฉลิมพระเกียรติ สมเด็จพระเทพรัตนราชสุดาฯ สยามบรมราชกุมารี
โครงการจัดทำสื่อ ๖๐ พรรษา

ชุดกิจกรรมการเรียนรู้ (สำหรับนักเรียน)

ระดับพัฒนา

กลุ่มสาระการเรียนรู้คณิตศาสตร์

หน่วยการเรียนรู้ที่ ๕

สถิติ

ชั้นประถมศึกษาปีที่ ๑-๓



ชื่อ - นามสกุล.....เลขที่.....

โรงเรียน.....