



เฉลิมพระเกียรติ สมเด็จพระเทพรัตนราชสุดาฯ สยามบรมราชกุมารี
โครงการจัดทำสื่อ ๖๐ พรรษา

ชุดกิจกรรมการเรียนรู้ (สำหรับนักเรียน)

ระดับพัฒนา

กลุ่มสาระการเรียนรู้คณิตศาสตร์


หน่วยการเรียนรู้ที่ ๓


เรขาคณิต

ชั้นประถมศึกษาปีที่ ๑-๓




สำนักงานโครงการสมเด็จพระเทพรัตนราชสุดาฯ สยามบรมราชกุมารี
สำนักงานคณะกรรมการการศึกษาขั้นพื้นฐาน สถาบันส่งเสริมการสอนวิทยาศาสตร์และเทคโนโลยี





สารบัญ

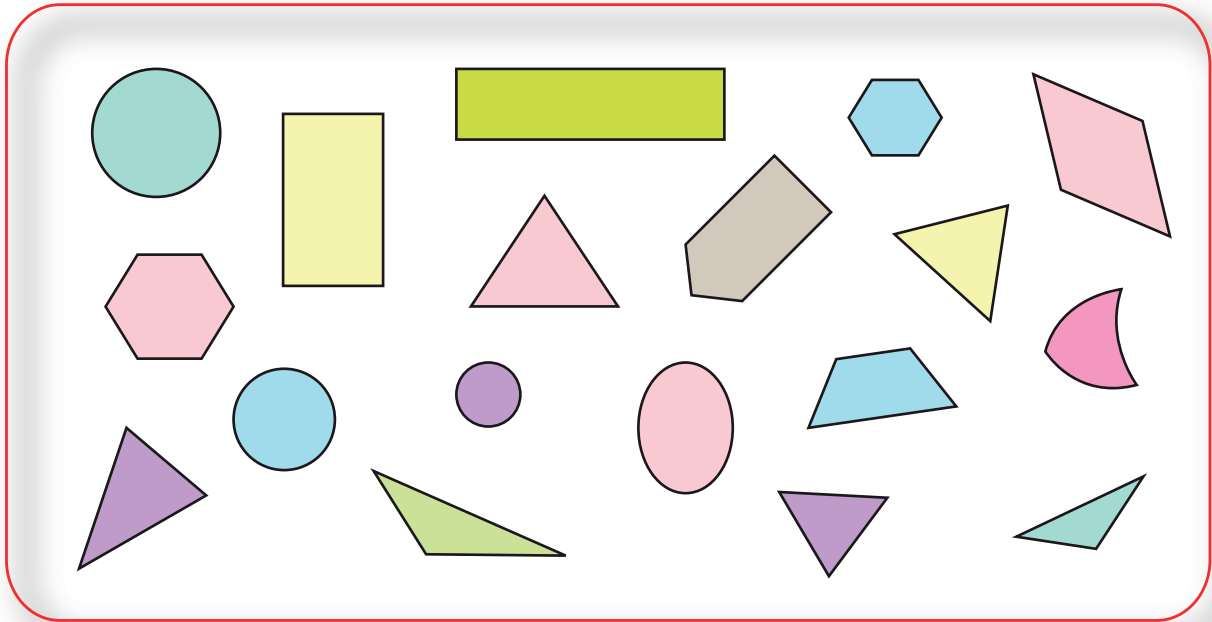
เรื่อง	หน้า
แบบฝึกหัด 2.1	1
แบบฝึกหัด 2.2	4
แบบฝึกหัด 2.3	6
แบบฝึกหัด 2.4	8
แบบฝึกหัด 2.5	9



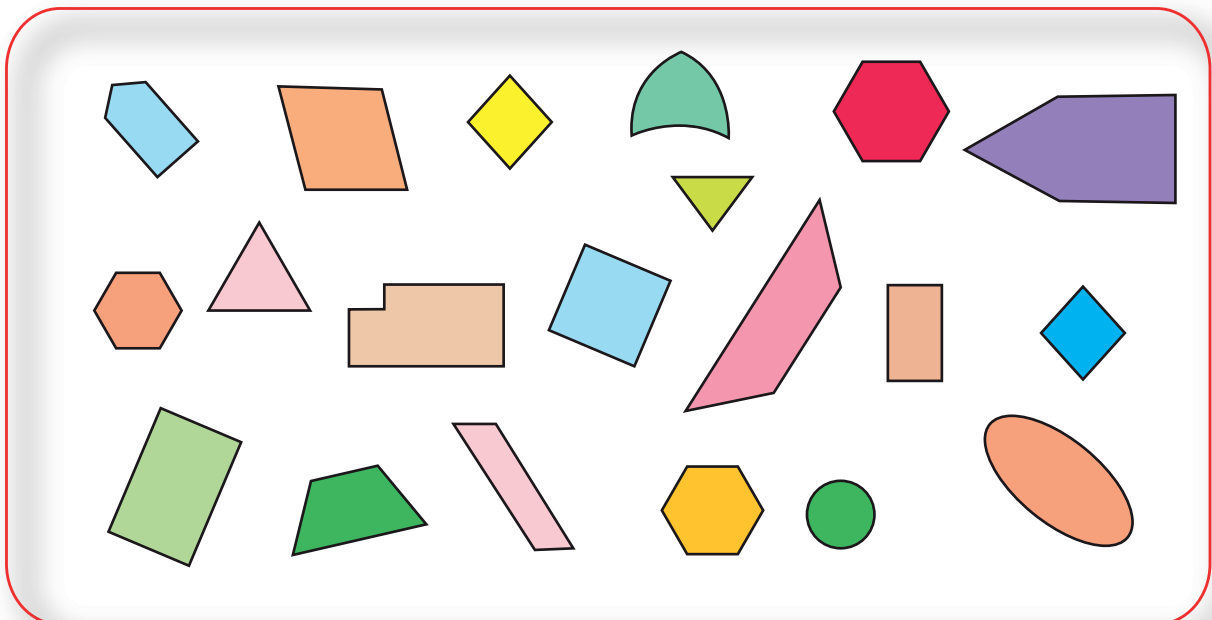



แบบฝึกหัด 2.1

1 เขียน ✓ ที่รูปสามเหลี่ยม

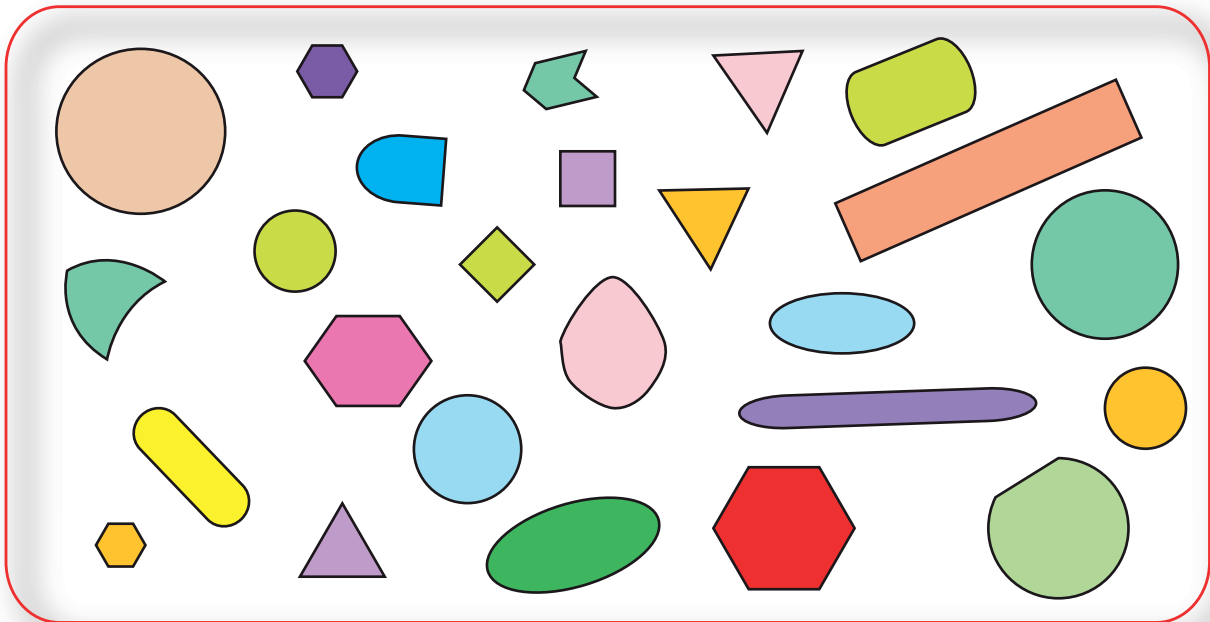


2 เขียน ✓ ที่รูปสี่เหลี่ยม

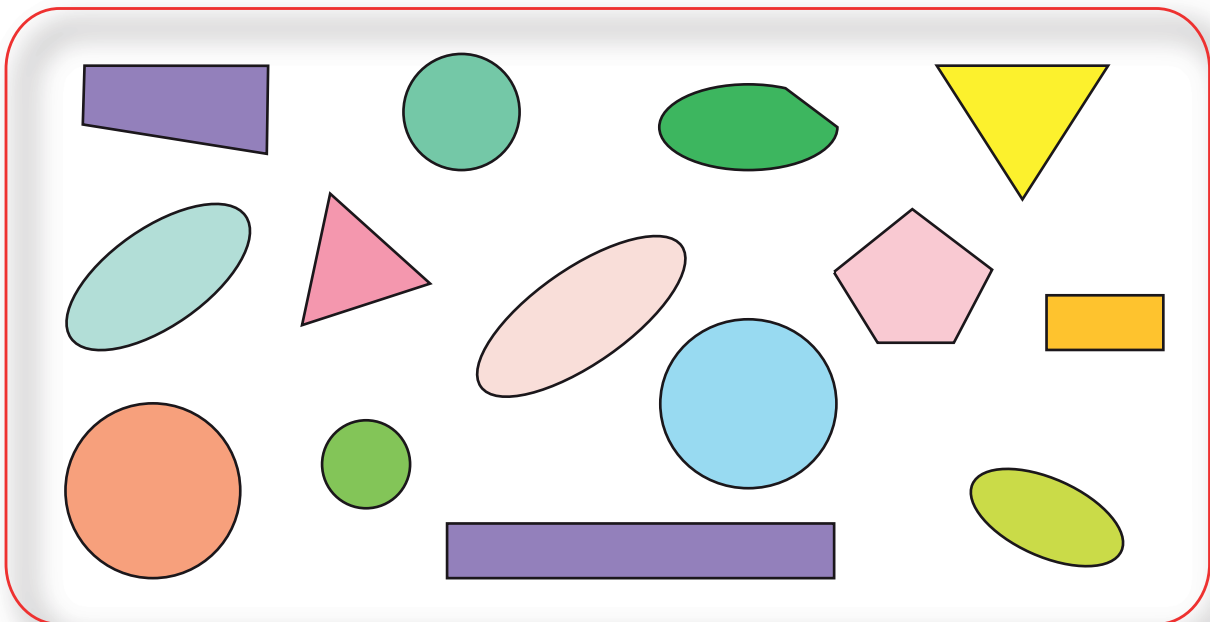





3 เขียน ✓ ที่รูปวงกลม



4 เขียน ✓ ที่รูปวงรี







หน่วยที่ ๓ เรขาคณิต

☆☆ ฝ. ๒.๑ / ฝ.๑

5 ระบายสีรูปชนิดเดียวกันด้วยสีเดียวกัน


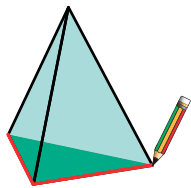





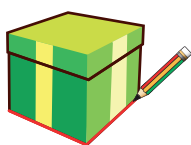
แบบฝึกหัด 2.2

วาดรูปโดยใช้แบบของรูปสามเหลี่ยม รูปสี่เหลี่ยม รูปวงกลม และรูปวงรี แบบละ 2 รูปที่แตกต่างกัน

รูปสามเหลี่ยม

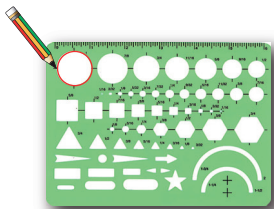


รูปสี่เหลี่ยม







รูปวงกลม



รูปวงรี





แบบฝึกหัด 2.3


1 เขียน ✓ ที่รูปเรขาคณิตให้ตรงกับชนิดที่กำหนดให้ทางซ้าย

ทรงกลม	
ทรงสี่เหลี่ยมมุมฉาก	
ทรงกระบอก	



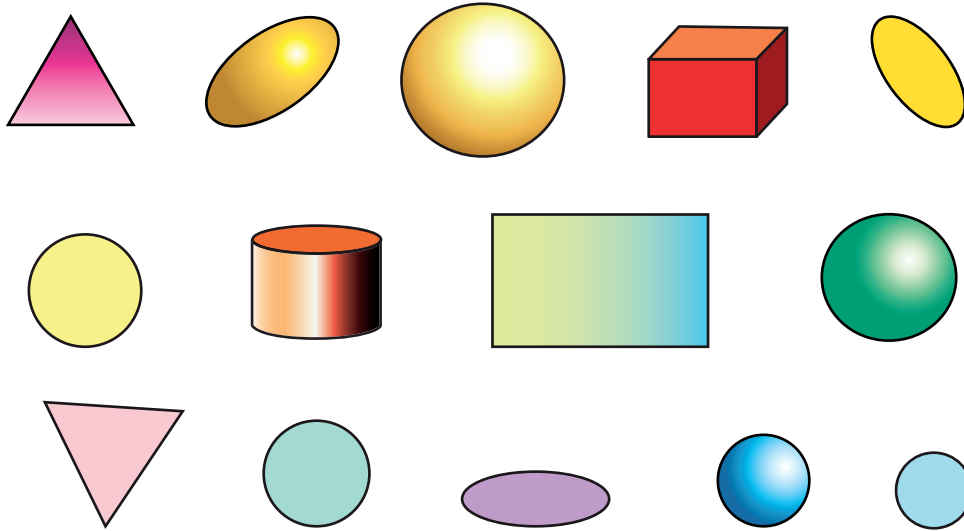
2 ระบายสีหรือแรเงารูปเรขาคณิตให้ตรงกับชนิดที่กำหนดให้
ทางซ้าย

<p>ทรงสี่เหลี่ยม มุมฉาก</p>	
<p>ทรงกลม</p>	
<p>ทรงกระบอก</p>	

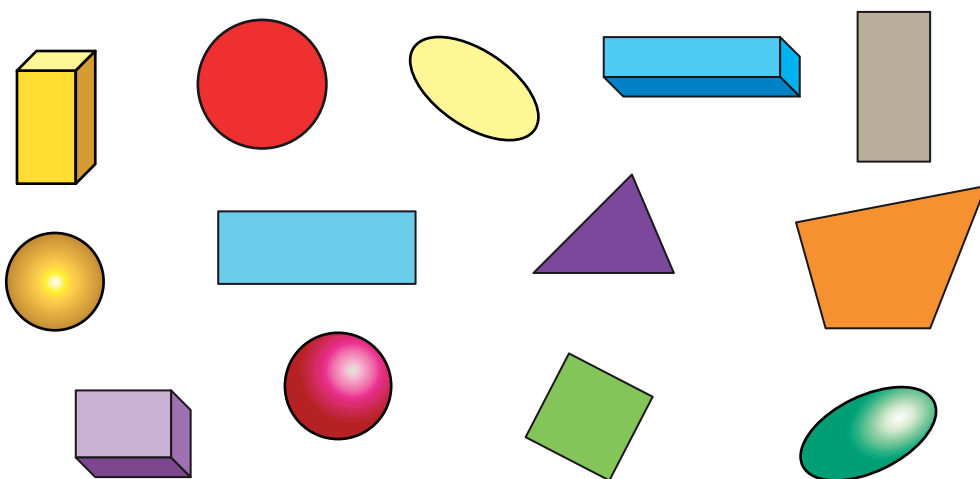


แบบฝึกหัด 2.4

1 เขียน ✓ ที่รูปวงกลม และ ✗ ที่ทรงกลม



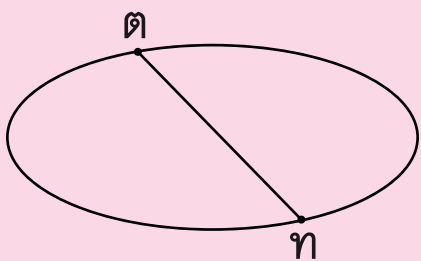
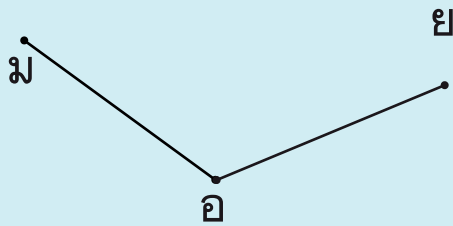
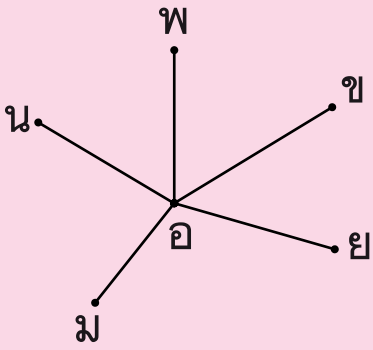
2 เขียน ✓ ที่รูปสี่เหลี่ยมมุมฉาก และ ✗ ที่ทรงสี่เหลี่ยมมุมฉาก



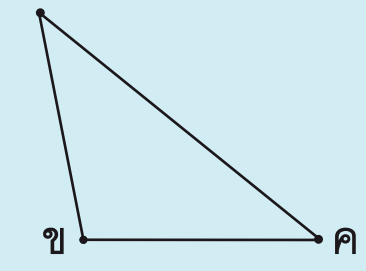



แบบฝึกหัด 2.5

1 เขียนสัญลักษณ์แทนส่วนของเส้นตรงจากรูปต่อไปนี้

<p>1)</p> 	<p><u>ตอบ</u></p> <p>.....</p> <p>.....</p> <p>.....</p> <p>.....</p>
<p>2)</p> 	<p><u>ตอบ</u></p> <p>.....</p> <p>.....</p> <p>.....</p> <p>.....</p>
<p>3)</p> 	<p><u>ตอบ</u></p> <p>.....</p> <p>.....</p> <p>.....</p> <p>.....</p> <p>.....</p>




<p>4)</p> 	<p><u>ตอบ</u></p> <p>.....</p> <p>.....</p> <p>.....</p> <p>.....</p> <p>.....</p>
<p>5)</p> 	<p><u>ตอบ</u></p> <p>.....</p> <p>.....</p> <p>.....</p> <p>.....</p> <p>.....</p>

② เขียนส่วนของเส้นตรงต่อไปนี้

1) $\overline{พบ}$


2) $\overline{อย}$

3) $\overline{ปด}$



หน่วยที่ ๓ เรขาคณิต

บันทึก



บันทึก



เฉลิมพระเกียรติ โครงการจัดทำสื่อ ๖๐ พรรษา สมเด็จพระเทพรัตนราชสุดาฯ สยามบรมราชกุมารี



เฉลิมพระเกียรติ โครงการจัดทำสื่อ ๖๐ พรรษา สมเด็จพระเทพรัตนราชสุดาฯ สยามบรมราชกุมารี

ชุดกิจกรรมการเรียนรู้ (สำหรับนักเรียน)

ระดับพัฒนา

กลุ่มสาระการเรียนรู้คณิตศาสตร์

หน่วยการเรียนรู้ที่ ๓

เรขาคณิต

ชั้นประถมศึกษาปีที่ ๑-๓



ชื่อ - นามสกุล.....เลขที่.....

โรงเรียน.....