



เฉลิมพระเกียรติ สมเด็จพระเทพรัตนราชสุดาฯ สยามบรมราชกุมารี
โครงการจัดทำสื่อ ๖๐ พรรษา



เฉลิมพระเกียรติ สมเด็จพระเทพรัตนราชสุดาฯ สยามบรมราชกุมารี
โครงการจัดทำสื่อ ๖๐ พรรษา

**ชุดกิจกรรมการเรียนรู้ (สำหรับนักเรียน)
ระดับพื้นฐาน**

กลุ่มสาระการเรียนรู้คณิตศาสตร์

หน่วยการเรียนรู้ที่ ๔

แบบรูป

ชั้นประถมศึกษาปีที่ ๑-๓



ชื่อ - นามสกุล..... เลขที่.....

โรงเรียน.....



เฉลิมพระเกียรติ โครงการจัดทำสื่อ ๒๐ พรรษา
สมเด็จพระเทพรัตนราชสุดาฯ สยามบรมราชกุมารี

ชุดกิจกรรมการเรียนรู้ (สำหรับนักเรียน) ระดับพื้นฐาน

กลุ่มสาระการเรียนรู้คณิตศาสตร์

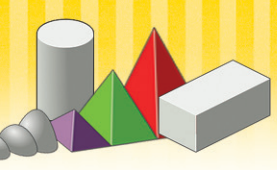
หน่วยการเรียนรู้ที่ ๔

แบบรูป

ชั้นประถมศึกษาปีที่ ๑-๓



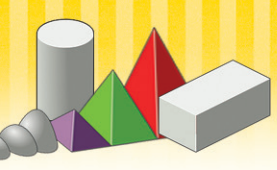
สำนักงานโครงการสมเด็จพระเทพรัตนราชสุดาฯ สยามบรมราชกุมารี
สำนักงานคณะกรรมการการศึกษาขั้นพื้นฐาน สถาบันส่งเสริมการสอนวิทยาศาสตร์และเทคโนโลยี

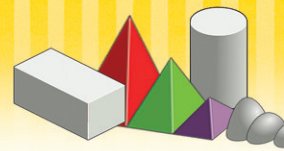




สารบัญ

เรื่อง	หน้า
แบบฝึกหัด 1.1	1
แบบฝึกหัด 1.2	2
แบบฝึกหัด 1.3	3
แบบฝึกหัด 1.4	4
แบบฝึกหัด 1.5	5
แบบฝึกหัด 1.6	7






แบบฝึกหัด 1.1

เขียน ✓ ในรูปถัดไปของแบบรูปต่อไปนี้

<p>ตัวอย่าง</p>	
<p>1</p>	
<p>2</p>	
<p>3</p>	
<p>4</p>	
<p>5</p>	



แบบฝึกหัด 1.2

เขียน ✓ ในรูปถัดไปของแบบรูปต่อไปนี้

ตัวอย่าง

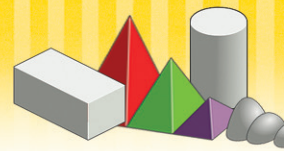
1

2

3

4

5



หน่วยที่ ๔

แบบรูป



ผ. ๑.๓ / ผ.๑

แบบฝึกหัด 1.3

เขียน ✓ ในรูปถัดไปของแบบรูปต่อไปนี้

ตัวอย่าง


1

2

3

4

5



แบบฝึกหัด 1.4

เขียนตัวเลขแสดงจำนวนใน

ตัวอย่าง

29

30

31

32

33

1

21

22

24

25

26

2

7

9

11

13

3

62

63

64

65

4

84

85

87

88

89

5

10

12

14

16

6

94

95

96

97

99

7

53

55

57

59

63

8

47

48

49

51

9

76

78

82

84

86

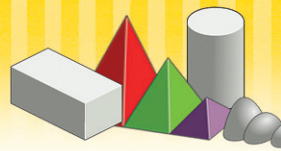
10

90

92

94

98



แบบฝึกหัด 1.5

1 เขียนความสัมพันธ์ของจำนวนในแบบรูปต่อไปนี้

ตัวอย่าง

59 60 61 62 63

เพิ่มขึ้นทีละ

1) 77 78 79 80 81

เพิ่มขึ้นทีละ

2) 15 17 19 21 23

เพิ่มขึ้นทีละ

3) 35 36 37 38 39


เพิ่มขึ้นทีละ

4) 52 54 56 58 60

เพิ่มขึ้นทีละ

5) 87 89 91 93 95

เพิ่มขึ้นทีละ



2 เขียนตัวเลขแสดงจำนวนใน

ตัวอย่าง

เพิ่มขึ้นทีละ 1

17

18

19

20

21

1) เพิ่มขึ้นทีละ 1

70

2) เพิ่มขึ้นทีละ 1

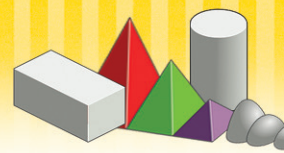
58

3) เพิ่มขึ้นทีละ 2

44

4) เพิ่มขึ้นทีละ 2

65



แบบฝึกหัด 1.6

1 เขียนตัวเลขแสดงจำนวนใน


ตัวอย่าง 24 23 22 21

- 1) 32 31 29 28 27
- 2) 48 47 46 45
- 3) 55 54 53 51
- 4) 100 99 97 96
- 5) 61 59 57

2 เขียนตัวเลขแสดงจำนวนใน ให้เป็นแบบรูปที่ลดลงทีละ 1

ตัวอย่าง

- 1)
- 2)
- 3)
- 4)



3 เขียนตัวเลขแสดงจำนวนใน

ตัวอย่าง

ลดลงทีละ 1

25

24

23

22

21

1) ลดลงทีละ 1

50

2) ลดลงทีละ 1

71

3) เพิ่มขึ้นทีละ 2

68

4) เพิ่มขึ้นทีละ 2

51