



เฉลิมพระเกียรติ สมเด็จพระเทพรัตนราชสุดาฯ สยามบรมราชกุมารี
โครงการจัดทำสื่อ ๒๐ พรรษา



เฉลิมพระเกียรติ สมเด็จพระเทพรัตนราชสุดาฯ สยามบรมราชกุมารี
โครงการจัดทำสื่อ ๒๐ พรรษา

ชุดกิจกรรมการเรียนรู้ (สำหรับนักเรียน)

ระดับพื้นฐาน

กลุ่มสาระการเรียนรู้คณิตศาสตร์

หน่วยการเรียนรู้ที่ ๓

เรขาคณิต

ชั้นประถมศึกษาปีที่ ๑-๓



ชื่อ - นามสกุล..... เลขที่.....

โรงเรียน.....

สำนักงานโครงการสมเด็จพระเทพรัตนราชสุดาฯ สยามบรมราชกุมารี
สำนักงานคณะกรรมการการศึกษาขั้นพื้นฐาน สถาบันส่งเสริมการสอนวิทยาศาสตร์และเทคโนโลยี



เฉลิมพระเกียรติ สมเด็จพระเทพรัตนราชสุดาฯ สยามบรมราชกุมารี
โครงการจัดทำสื่อ ๒๐ พรรษา

ชุดกิจกรรมการเรียนรู้ (สำหรับนักเรียน) ระดับพื้นฐาน

กลุ่มสาระการเรียนรู้คณิตศาสตร์

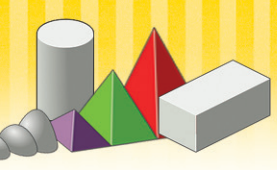
หน่วยการเรียนรู้ที่ ๓

เรขาคณิต

ชั้นประถมศึกษาปีที่ ๑-๓



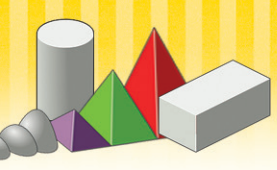
สำนักงานโครงการสมเด็จพระเทพรัตนราชสุดาฯ สยามบรมราชกุมารี
สำนักงานคณะกรรมการการศึกษาขั้นพื้นฐาน สถาบันส่งเสริมการสอนวิทยาศาสตร์และเทคโนโลยี

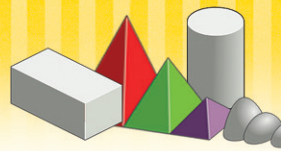




สารบัญ

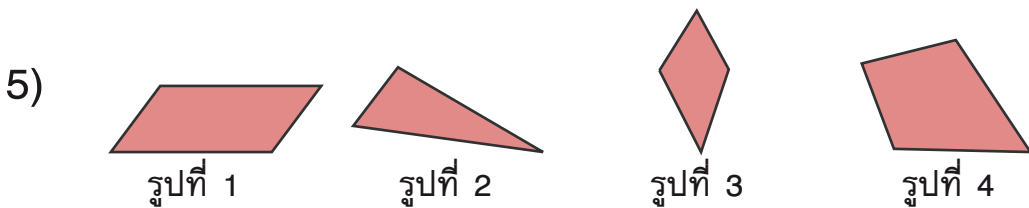
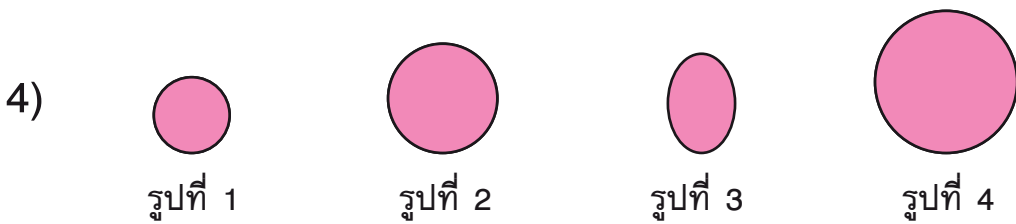
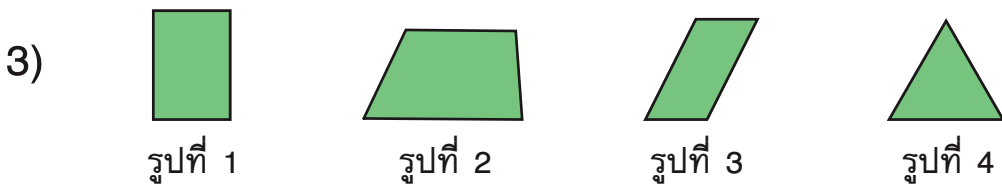
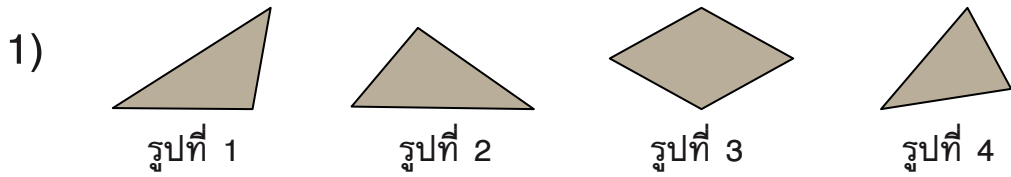
เรื่อง	หน้า
แบบฝึกหัด 1.1	1
แบบฝึกหัด 1.2	4
แบบฝึกหัด 1.3	7
แบบฝึกหัด 1.4	10
แบบฝึกหัด 1.5	12








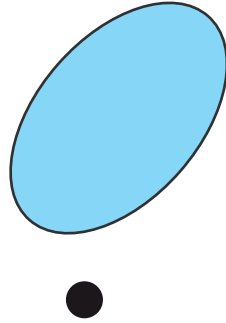
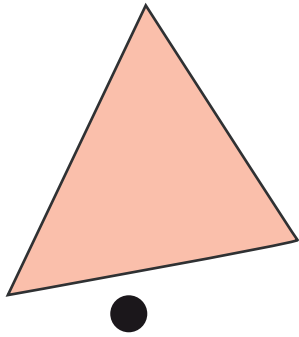
แบบฝึกหัด 1.1

1 เขียน ✕ ทับรูปที่ไม่เข้าพวก





๒ ลากเส้นจับคู่ให้ถูกต้อง



รูปสี่เหลี่ยม



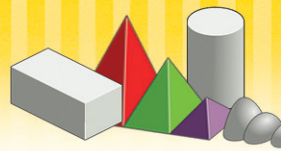
รูปวงกลม



รูปวงรี




รูปสามเหลี่ยม



3 ระบายสีหรือแรเงารูปชนิดเดียวกับชื่อที่กำหนดให้ทางซ้าย

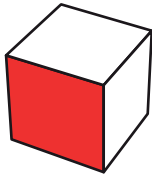
<p style="text-align: center;">ตัวอย่าง</p> <p>รูปสี่เหลี่ยม</p>	
<p>1)</p> <p>รูปสามเหลี่ยม</p>	
<p>2)</p> <p>รูปสี่เหลี่ยม</p>	
<p>3)</p> <p>รูปวงกลม</p>	
<p>4)</p> <p>รูปวงรี</p>	



แบบฝึกหัด 1.2

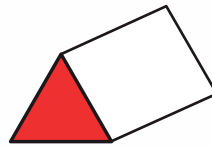
1 เขียน ✕ ใน □ หน้าข้อความที่บอกชนิดของรูปที่เรเงา

1)



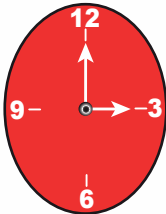
- รูปสามเหลี่ยม
- รูปสี่เหลี่ยม
- รูปวงกลม
- รูปวงรี

2)




- รูปสามเหลี่ยม
- รูปสี่เหลี่ยม
- รูปวงกลม
- รูปวงรี

3)



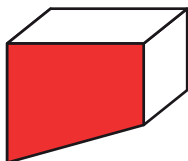
- รูปสามเหลี่ยม
- รูปสี่เหลี่ยม
- รูปวงกลม
- รูปวงรี

4)



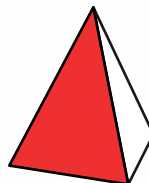
- รูปสามเหลี่ยม
- รูปสี่เหลี่ยม
- รูปวงกลม
- รูปวงรี

5)

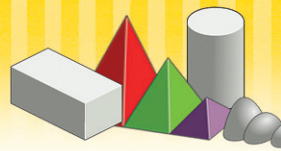


- รูปสามเหลี่ยม
- รูปสี่เหลี่ยม
- รูปวงกลม
- รูปวงรี

6)



- รูปสามเหลี่ยม
- รูปสี่เหลี่ยม
- รูปวงกลม
- รูปวงรี

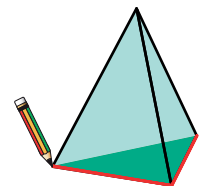



2 วาดรูปต่อไปนี้ โดยใช้สิ่งต่างๆ เป็นแบบ หรือใช้แบบของรูป

รูปสี่เหลี่ยม

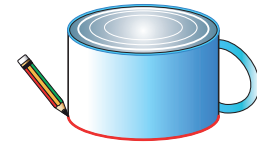


รูปสามเหลี่ยม



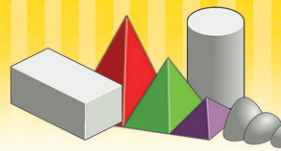


รูปวงกลม



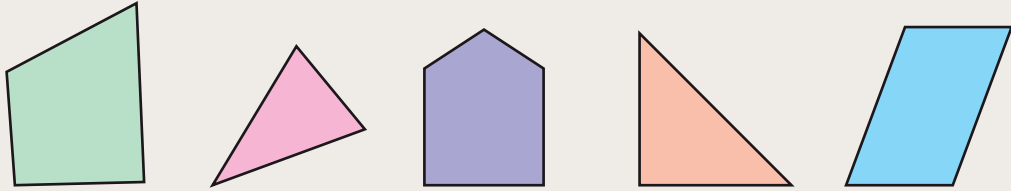
รูปวงรี






แบบฝึกหัด 1.3

1 เขียน ✓ ที่รูปสามเหลี่ยม




2 เขียน ✓ ที่รูปที่ ไม่ใช่ รูปสามเหลี่ยม

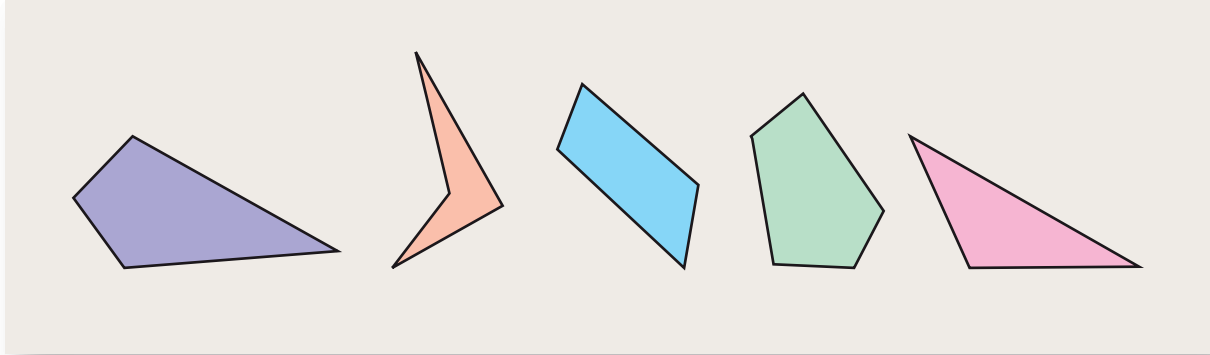


3 เขียน ✓ ที่รูปสี่เหลี่ยม

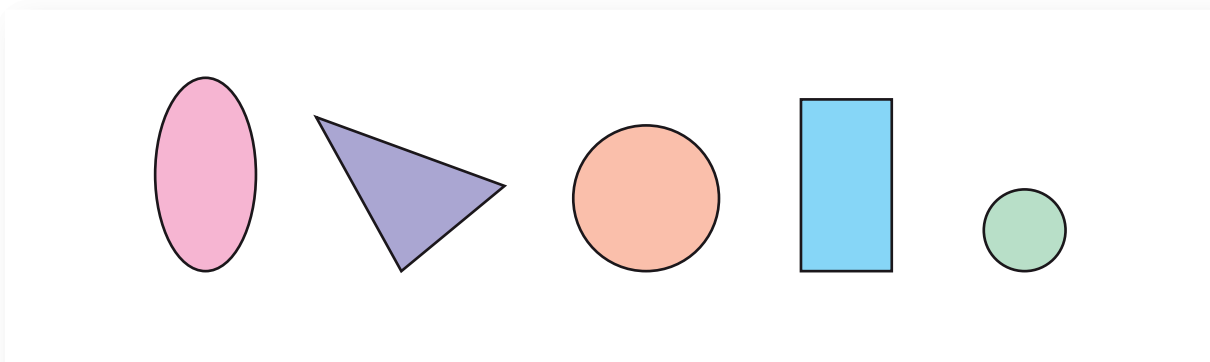




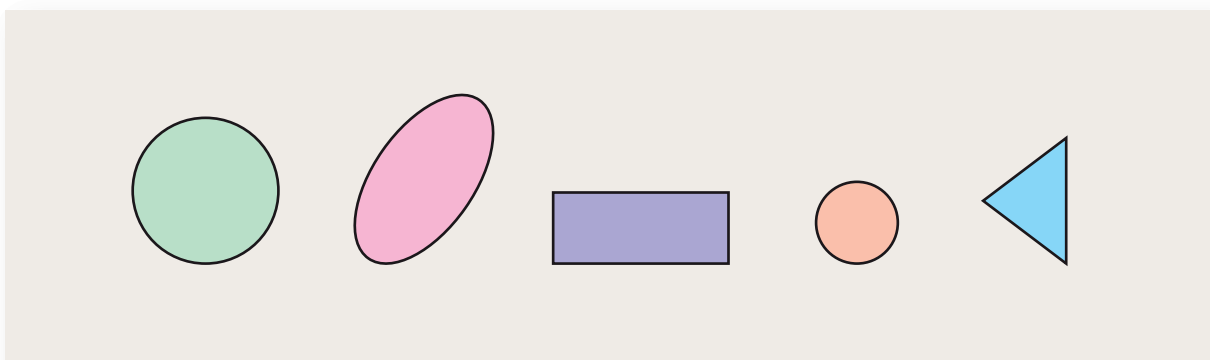
4 เขียน ✓ ที่รูปที่ ไม่ใช่ รูปสี่เหลี่ยม

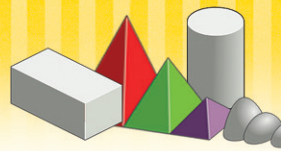


5 เขียน ✓ ที่รูปวงกลม

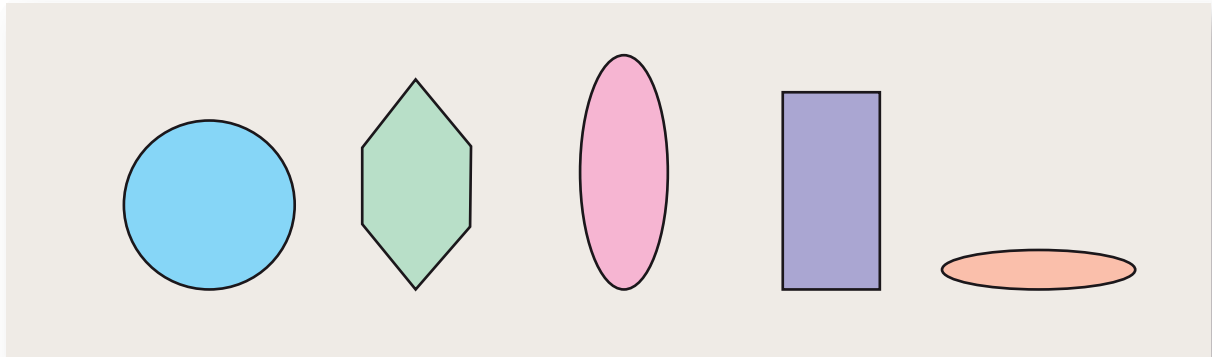


6 เขียน ✓ ที่รูปที่ ไม่ใช่ รูปวงกลม

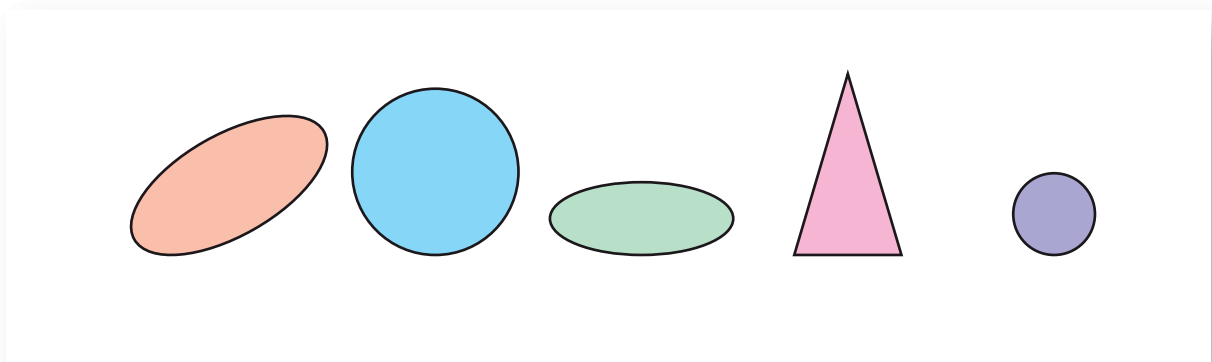





7 เขียน ✓ ที่รูปวงรี



8 เขียน ✓ ที่รูปที่ ไม่ใช่ รูปวงรี







แบบฝึกหัด 1.4

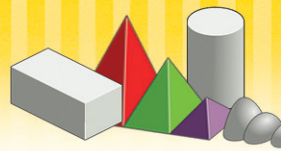
ต่อเติมรูปเรขาคณิตต่อไปนี้ ให้สวยงามตามความคิดสร้างสรรค์
พร้อมระบายสีให้สวยงาม

1

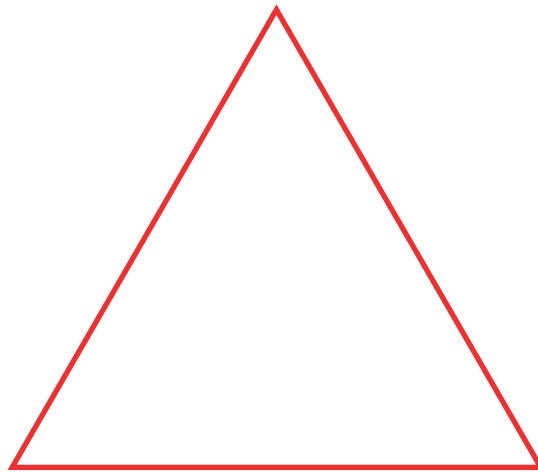


2






3



4



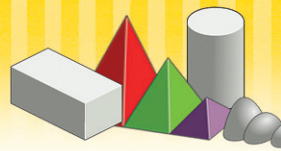


แบบฝึกหัด 1.5

1 เขียน ✓ ใน ○ ได้รูปที่เป็นส่วนของเส้นตรง


The diagrams are as follows:

- Top-left: A straight line segment with character 'ย' at the bottom-left and 'ม' at the top-right. Below it is a blue circle.
- Top-middle: A vertical straight line segment with character 'ข' at the top and 'ค' at the bottom. Below it is a blue circle.
- Top-right: A curved line segment with character 'ก' at the top and 'ง' at the bottom. Below it is a blue circle.
- Bottom-left: A wavy line segment with character 'ท' at the bottom-left and 'ถ' at the top-right. Below it is a blue circle.
- Bottom-middle: A straight line segment with character 'บ' at the top-left and 'ผ' at the bottom-right. Below it is a blue circle.
- Bottom-right: A zigzag line segment with character 'พ' at the bottom-left and 'ต' at the bottom-right. Below it is a blue circle.

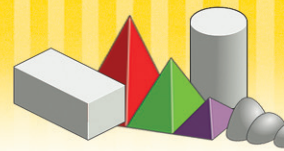


๒ เขียนสัญลักษณ์แสดงส่วนของเส้นตรงที่กำหนดให้

	<p>.....</p> <p>.....</p>
	<p>.....</p> <p>.....</p>
	<p>.....</p> <p>.....</p>
	<p>.....</p> <p>.....</p>
	<p>.....</p> <p>.....</p>




A large, vertically oriented rectangular area with a scalloped, torn-paper edge. It contains 18 horizontal dashed blue lines for writing, set against a light beige background.



หน่วยที่ ๓ เรขาคณิต



A large, vertically oriented rectangular area with a scalloped, torn-paper edge. The interior is filled with horizontal dashed blue lines, providing a space for writing or drawing.



A large, vertically oriented rectangular area with a scalloped, torn-paper edge. It contains 18 horizontal dashed blue lines for writing, spaced evenly down the page.