



เฉลิมพระเกียรติ โครงการจัดทำสื่อ ๖๐ พรรษา
สมเด็จพระเทพรัตนราชสุดาฯ สยามบรมราชกุมารี

ชุดกิจกรรมการเรียนรู้ (สำหรับนักเรียน) ระดับก้าวหน้า

กลุ่มสาระการเรียนรู้คณิตศาสตร์

หน่วยการเรียนรู้ที่ ๒.๑

การบวก การลบ

ชั้นประถมศึกษาปีที่ ๑-๓



ชื่อ - นามสกุล..... เลขที่.....

โรงเรียน.....

สำนักงานโครงการสมเด็จพระเทพรัตนราชสุดาฯ สยามบรมราชกุมารี
สำนักงานคณะกรรมการการศึกษาขั้นพื้นฐาน สถาบันส่งเสริมการสอนวิทยาศาสตร์และเทคโนโลยี





สารบัญ

เรื่อง	หน้า
แบบฝึกหัด 3.1	1
แบบฝึกหัด 3.2	2
แบบฝึกหัด 3.3	3
แบบฝึกหัด 3.4	5
แบบฝึกหัด 3.5	7
แบบฝึกหัด 3.6	10
แบบฝึกหัด 3.7	12
แบบฝึกหัด 3.8	13
แบบฝึกหัด 3.9	14
แบบฝึกหัด 3.10	16
แบบฝึกหัด 3.11	17
แบบฝึกหัด 3.12	18
แบบฝึกหัด 3.13	19
แบบฝึกหัด 3.14	20
แบบฝึกหัด 3.15	21
แบบฝึกหัด 3.16	22
แบบฝึกหัด 3.17	24
แบบฝึกหัด 3.18	26
แบบฝึกหัด 3.19	29
แบบฝึกหัด 3.20	30
แบบฝึกหัด 3.21	31
แบบฝึกหัด 3.22	32



สารบัญต่อ

เรื่อง	หน้า
แบบฝึกหัด 3.23	34
แบบฝึกหัด 3.24	36
แบบฝึกหัด 3.25	38
แบบฝึกหัด 3.26	40
แบบฝึกหัด 3.27	42
แบบฝึกหัด 3.28	44
แบบฝึกหัด 3.29	46
แบบฝึกหัด 3.30	48



แบบฝึกหัด 3.1

หาผลบวก

1

$$\begin{array}{r} 131 \\ + \\ \hline 68 \\ \hline \hline \end{array}$$

2

$$\begin{array}{r} 445 \\ + \\ \hline 214 \\ \hline \hline \end{array}$$

3

$$\begin{array}{r} 307 \\ + \\ \hline 412 \\ \hline \hline \end{array}$$

4

$$\begin{array}{r} 571 \\ + \\ \hline 215 \\ \hline \hline \end{array}$$

5

$$\begin{array}{r} 616 \\ + \\ \hline 251 \\ \hline \hline \end{array}$$

6

$$\begin{array}{r} 632 \\ + \\ \hline 155 \\ \hline \hline \end{array}$$

7

 $226 + 53 = \square$

8

 $815 + 12 = \square$

9

 $334 + 162 = \square$

10

 $400 + 537 = \square$

11

 $425 + 350 = \square$

12

 $307 + 412 = \square$

13

 $724 + 214 = \square$

14

 $333 + 165 = \square$

15

 $313 + 211 = \square$

16

 $540 + 159 = \square$



แบบฝึกหัด 3.2

เลือกจำนวนที่กำหนด เต็มใน

1

35 20 12 15 30

+ = 50

+ = 50

2

28 32 8 38 22

+ = 60

+ = 60

3

15 20 12 10 13

+ = 25

+ = 25

4

13 42 33 23 52

+ = 75

+ = 75

5

30 7 12 5 25

+ = 37

+ = 37

6

48 28 62 52 38

+ = 100

+ = 100



แบบฝึกหัด 3.3

1 เติมจำนวนในช่อง

$$514 + 49 = \square$$

$$49 + 514 = \square$$

$$514 + \square = 49 + 514$$

$$137 + \square = 291 + 137$$

$$\square + 427 = 427 + 335$$

$$200 + \square = 150 + \square$$

$$\square + 328 = \square + 117$$



2) หาผลบวก

1)
$$\begin{array}{r} 199 \\ + 101 \\ \hline \\ \hline \end{array}$$

2)
$$\begin{array}{r} 559 \\ + 271 \\ \hline \\ \hline \end{array}$$

3)
$$\begin{array}{r} 625 \\ + 375 \\ \hline \\ \hline \end{array}$$

4)
$$\begin{array}{r} 275 \\ + 250 \\ \hline \\ \hline \end{array}$$

5)
$$\begin{array}{r} 139 \\ + 763 \\ \hline \\ \hline \end{array}$$

6)
$$\begin{array}{r} 314 \\ + 497 \\ \hline \\ \hline \end{array}$$

7) $34 + 119 = \square$


8) $45 + 676 = \square$

9) $465 + 398 = \square$

10) $243 + 757 = \square$

11) $692 + 108 = \square$

12) $486 + 478 = \square$



แบบฝึกหัด 3.4

หาผลบวก

$$\begin{array}{r} 1 \quad 199 \\ 201 + \\ \hline 420 \\ \hline \hline \end{array}$$

$$\begin{array}{r} 2 \quad 402 \\ 213 + \\ \hline 374 \\ \hline \hline \end{array}$$

$$\begin{array}{r} 3 \quad 520 \\ 214 + \\ \hline 179 \\ \hline \hline \end{array}$$

$$\begin{array}{r} 4 \quad 119 \\ 225 + \\ \hline 376 \\ \hline \hline \end{array}$$

$$\begin{array}{r} 5 \quad 229 \\ 313 + \\ \hline 175 \\ \hline \hline \end{array}$$

$$\begin{array}{r} 6 \quad 278 \\ 512 + \\ \hline 142 \\ \hline \hline \end{array}$$

$$\begin{array}{r} 7 \quad 343 \\ 213 + \\ \hline 391 \\ \hline \hline \end{array}$$

$$\begin{array}{r} 8 \quad 474 \\ 167 + \\ \hline 215 \\ \hline \hline \end{array}$$

$$\begin{array}{r} 9 \quad 499 \\ 128 + \\ \hline 322 \\ \hline \hline \end{array}$$



๒ แสดงวิธีทำ

1) $105 + 346 + 425 = \square$

.....
.....
.....
.....
.....

ตอบ

2) $356 + 218 + 247 = \square$

.....
.....
.....
.....
.....

ตอบ

3) $234 + 359 + 207 = \square$

.....
.....
.....
.....
.....

ตอบ



แบบฝึกหัด 3.5

1 เติมจำนวนใน เครื่องหมายใน และหาคำตอบ

1) ลุงเลี้ยงไก่ตัวผู้ 127 ตัว เลี้ยงไก่ตัวเมีย 114 ตัว
 ลุงเลี้ยงไก่ทั้งหมดกี่ตัว

ตอบ ลุงเลี้ยงไก่ทั้งหมด ตัว

2) แก้วขายลูกปลานิลได้ 225 ตัว ขายลูกปลาตะเพียนได้
 148 ตัว แก้วขายลูกปลาได้ทั้งหมดกี่ตัว

ตอบ แก้วขายลูกปลาได้ทั้งหมด ตัว

3) สูดามีลูกแก้ว 340 ลูก วินัยมีลูกแก้วมากกว่าสุดา
 250 ลูก วินัยมีลูกแก้วกี่ลูก

ตอบ วินัยมีลูกแก้ว ลูก



แบบฝึกหัด 3.6

หาผลลบ

1

$$\begin{array}{r} 437 \\ - 125 \\ \hline \\ \hline \end{array}$$

2

$$\begin{array}{r} 534 \\ - 203 \\ \hline \\ \hline \end{array}$$

3

$$\begin{array}{r} 289 \\ - 71 \\ \hline \\ \hline \end{array}$$

4

$$\begin{array}{r} 615 \\ - 405 \\ \hline \\ \hline \end{array}$$

5

$$\begin{array}{r} 783 \\ - 312 \\ \hline \\ \hline \end{array}$$

6

$$\begin{array}{r} 309 \\ - 106 \\ \hline \\ \hline \end{array}$$

7

$$\begin{array}{r} 569 \\ - 314 \\ \hline \\ \hline \end{array}$$

8

$$\begin{array}{r} 784 \\ - 251 \\ \hline \\ \hline \end{array}$$

9

$$\begin{array}{r} 680 \\ - 340 \\ \hline \\ \hline \end{array}$$

10

$$\begin{array}{r} 697 \\ - 523 \\ \hline \\ \hline \end{array}$$

11

$$\begin{array}{r} 818 \\ - 416 \\ \hline \\ \hline \end{array}$$

12

$$\begin{array}{r} 738 \\ - 122 \\ \hline \\ \hline \end{array}$$



หน่วยที่ ๒ การดำเนินการของจำนวน การบวก การลบ

☆☆☆ ผ.๓.๖ / ผ.๕

$$13 \quad 657 - 632 = \square$$

$$14 \quad 937 - 12 = \square$$

$$15 \quad 983 - 82 = \square$$

$$16 \quad 757 - 251 = \square$$

$$17 \quad 975 - 323 = \square$$

$$18 \quad 964 - 531 = \square$$

$$19 \quad 888 - 716 = \square$$

$$20 \quad 846 - 35 = \square$$



แบบฝึกหัด 3.7

หาผลลบ

1

$$\begin{array}{r} 987 \\ - 43 \\ \hline \\ \hline \end{array}$$

2

$$\begin{array}{r} 849 \\ - 18 \\ \hline \\ \hline \end{array}$$

3

$$\begin{array}{r} 360 \\ - 120 \\ \hline \\ \hline \end{array}$$

4

$$\begin{array}{r} 457 \\ - 241 \\ \hline \\ \hline \end{array}$$

5

$$\begin{array}{r} 846 \\ - 121 \\ \hline \\ \hline \end{array}$$

6

$$\begin{array}{r} 738 \\ - 125 \\ \hline \\ \hline \end{array}$$

7

$$\begin{array}{r} 649 \\ - 304 \\ \hline \\ \hline \end{array}$$

8

$$\begin{array}{r} 936 \\ - 234 \\ \hline \\ \hline \end{array}$$

9

$$\begin{array}{r} 524 \\ - 310 \\ \hline \\ \hline \end{array}$$

10

$$\begin{array}{r} 506 \\ - 405 \\ \hline \\ \hline \end{array}$$

11

$$\begin{array}{r} 692 \\ - 272 \\ \hline \\ \hline \end{array}$$

12

$$\begin{array}{r} 778 \\ - 521 \\ \hline \\ \hline \end{array}$$

13

$$\begin{array}{r} 815 \\ - 610 \\ \hline \\ \hline \end{array}$$

14

$$\begin{array}{r} 984 \\ - 752 \\ \hline \\ \hline \end{array}$$

15

$$\begin{array}{r} 967 \\ - 453 \\ \hline \\ \hline \end{array}$$



แบบฝึกหัด 3.8

หาผลบวกและผลลบ

1

$$\begin{array}{r} 154 \\ + \\ 214 \\ \hline \\ \hline \end{array}$$

2

$$\begin{array}{r} 456 \\ - \\ 232 \\ \hline \\ \hline \end{array}$$

3

$$\begin{array}{r} 563 \\ + \\ 324 \\ \hline \\ \hline \end{array}$$

4

$$\begin{array}{r} 469 \\ - \\ 156 \\ \hline \\ \hline \end{array}$$

5

$$\begin{array}{r} 359 \\ + \\ 240 \\ \hline \\ \hline \end{array}$$

6

$$\begin{array}{r} 725 \\ - \\ 314 \\ \hline \\ \hline \end{array}$$



แบบฝึกหัด 3.9

หาผลลัพธ์หรือเติมตัวเลขแสดงจำนวนในช่องว่าง

1

247	809
+	-	-
562	562
.....
.....

2

319	587
+	-	-
268	319
.....	268	319
.....

3

480	855	855
+	-	-
375
.....	480
.....

4


630	800
+	-	-
170	630
.....
.....

5

568	710
+	-	-
142	568
.....
.....

6

375	661
+	-	-
286
.....
.....




7 $743 - \square = 358$

8 $\square - 267 = 655$

9 $409 + \square = 677$

10 $\square + 175 = 987$





แบบฝึกหัด 3.10

เติมคำตอบในช่องว่าง

- 1 หนังสือเล่มหนึ่งมี 356 หน้า นิภาอ่านไปแล้ว 245 หน้า เหลือหน้าที่ยังไม่อ่านกี่หน้า

ตอบ

- 2 ยุดามีปลาเงิน 578 ตัว มีปลาเงินมากกว่าปลาทอง 136 ตัว ยุดามีปลาทองกี่ตัว

ตอบ

- 3 เทศบาลแห่งหนึ่งสร้างถนนยาว 950 เมตร ลาดยางไปแล้ว 320 เมตร เหลือถนนที่ยังไม่ลาดยางกี่เมตร

ตอบ

- 4 ทิวามีลูกบัต 759 เม็ด ร้อยลูกบัตไปแล้ว 459 เม็ด เหลือลูกบัตที่ยังไม่ได้ร้อยกี่เม็ด


ตอบ

- 5 แม่ค้าซื้อเสื้อผ้ามชาย 495 ตัว ซื้อกางเกงมชาย 264 ตัว แม่ค้าซื้อเสื้อผ้ามชายมากกว่ากางเกงกี่ตัว

ตอบ

- 6 ลุงเลี้ยงไก่ไว้ 682 ตัว เลี้ยงเป็ดน้อยกว่าไก่ 370 ตัว ลุงเลี้ยงเป็ดกี่ตัว

ตอบ



แบบฝึกหัด 3.11

แสดงวิธีทำ

- 1 ชั้น ป. 2 มีนักเรียน 256 คน ชั้น ป. 3 มีนักเรียน 242 คน
ชั้น ป. 2 มีนักเรียนมากกว่าชั้น ป. 3 กี่คน

วิธีทำ

ตอบ

- 2 พ่อค้าเลี้ยงปลาไว้ 896 ตัว จับไปขาย 483 ตัว
พ่อค้าเหลือปลากี่ตัว

วิธีทำ

ตอบ

- 3 หอประชุมแห่งหนึ่งมีเก้าอี้ 945 ตัว มีนักเรียนนั่งเก้าอี้
832 ตัว เหลือเก้าอี้ว่างกี่ตัว

วิธีทำ

ตอบ



แบบฝึกหัด 3.12

1) หาผลบวก

$$\begin{array}{r} 1) \quad 5102 \\ + \quad 2103 \\ \hline \hline \end{array}$$

$$\begin{array}{r} 2) \quad 156 \\ + \quad 2312 \\ \hline \hline \end{array}$$

$$\begin{array}{r} 3) \quad 2649 \\ + \quad 3130 \\ \hline \hline \end{array}$$

$$\begin{array}{r} 4) \quad 3347 \\ + \quad 2142 \\ \hline \hline \end{array}$$

2) แสดงวิธีทำ

1) $4,520 + 423 = \square$

.....
.....
.....

ตอบ

2) $5,776 + 122 = \square$

.....
.....
.....

ตอบ

3) $3,125 + 4,313 = \square$


.....
.....
.....

ตอบ

4) $3,824 + 6,153 = \square$

.....
.....
.....

ตอบ



แบบฝึกหัด 3.13

1) หาผลบวก

$$\begin{array}{r} 1) \quad 2839 \\ + \quad 1057 \\ \hline \\ \hline \end{array}$$

$$\begin{array}{r} 2) \quad 3509 \\ + \quad 2399 \\ \hline \\ \hline \end{array}$$

$$\begin{array}{r} 3) \quad 4537 \\ + \quad 368 \\ \hline \\ \hline \end{array}$$

$$\begin{array}{r} 4) \quad 5612 \\ + \quad 2288 \\ \hline \\ \hline \end{array}$$

$$\begin{array}{r} 5) \quad 6304 \\ + \quad 1487 \\ \hline \\ \hline \end{array}$$

$$\begin{array}{r} 6) \quad 5029 \\ + \quad 975 \\ \hline \\ \hline \end{array}$$

2) แสดงวิธีทำ

1) $2,557 + 4,307 =$

.....
.....
.....

ตอบ

2) $3,789 + 3,191 =$

.....
.....
.....

ตอบ

3) $3,648 + 2,688 =$

.....
.....
.....

ตอบ

4) $5,081 + 3,798 =$

.....
.....
.....

ตอบ

5) $2,514 + 4,599 =$

.....
.....
.....

ตอบ

6) $6,435 + 3,565 =$

.....
.....
.....

ตอบ



แบบฝึกหัด 3.14

หาผลบวก

1 24,632 + 4,879 =

.....
.....
.....

ตอบ

2 36,027 + 12,983 =

.....
.....
.....

ตอบ

3 2,275 + 45,185 =

.....
.....
.....

ตอบ

4 24,888 + 7,352 =

.....
.....
.....

ตอบ

5 3,754 + 56,789 =

.....
.....
.....

ตอบ

6 21,509 + 58,676 =

.....
.....
.....

ตอบ

7 27,358 + 46,898 =


.....
.....
.....

ตอบ

8 37,649 + 62,351 =

.....
.....
.....

ตอบ



แบบฝึกหัด 3.15

แสดงวิธีทำ

1 $15,482 + 20,576 = \square$

.....

.....

.....

ตอบ

2 $26,307 + 1,974 = \square$

.....

.....

.....

ตอบ

3 $21,589 + 6,248 = \square$

.....

.....

.....

ตอบ

4 $11,904 + 27,306 = \square$

.....

.....

.....

ตอบ

5 $66,435 + 15,748 = \square$

.....

.....

.....

ตอบ

6 $32,513 + 4,589 = \square$

.....

.....

.....

ตอบ



แบบฝึกหัด 3.16

1 แสดงวิธีทำ

1) $11,284 + 2,197 + 16,158 = \square$

.....
.....
.....
.....

ตอบ

2) $15,687 + 26,812 + 13,056 = \square$

.....
.....
.....
.....

ตอบ

3) $5,059 + 41,867 + 24,098 = \square$

.....
.....
.....
.....

ตอบ



$$4) \quad 37,078 + 49,234 + 13,688 = \square$$

.....
.....
.....
.....
.....

ตอบ

2 ทหาผลบวก

$$1) \quad 805 + 2,129 + 24,513 = \square$$

$$2) \quad 43,718 + 15,274 + 30,381 = \square$$

$$3) \quad 27,078 + 9,235 + 43,644 = \square$$

$$4) \quad 4,156 + 13,908 + 46,157 = \square$$



แบบฝึกหัด 3.17

เติมคำตอบ

- 1 งานแสดงศิลปหัตถกรรมแห่งหนึ่ง มีนักเรียนชายเข้าชม 6,479 คน มีนักเรียนหญิงเข้าชม 5,983 คน มีนักเรียนเข้าชมงานทั้งหมดกี่คน


ตอบ มีนักเรียนเข้าชมงานทั้งหมด คน

- 2 น้องมีเงินฝากธนาคาร 5,986 บาท น้องมีเงินฝากน้อยกว่าพี่ 3,079 บาท พี่มีเงินฝากกี่บาท

ตอบ พี่มีเงินฝาก บาท

- 3 ร้านค้าแห่งหนึ่งส่งน้ำผลไม้มาขาย 2,850 ขวด ส่งน้ำดื่มมาขายมากกว่าน้ำผลไม้ 9,650 ขวด ร้านค้าส่งน้ำดื่มมาขายกี่ขวด

ตอบ ร้านค้าส่งน้ำดื่มมาขาย ขวด



- ๔ ซาคริตจ่ายเงินซื้อเครื่องซักผ้าราคา 15,460 บาท ราคาเครื่องซักผ้าต่ำกว่าราคาตู้เย็น 3,579 บาท ซาคริตจ่ายเงินซื้อตู้เย็นราคากี่บาท

ตอบ ซาคริตจ่ายเงินซื้อตู้เย็นราคา บาท

- ๕ ห้องสมุดแห่งหนึ่งมีหนังสือ 25,785 เล่ม ซื้อมาเพิ่มอีก 1,475 เล่ม ห้องสมุดมีหนังสือกี่เล่ม

ตอบ ห้องสมุดมีหนังสือ เล่ม



แบบฝึกหัด 3.18

แสดงวิธีทำ

- ① ครั้งแรกชาวสวนเก็บมะม่วงได้ 5,864 กิโลกรัม ครั้งที่สองเก็บได้ 6,978 กิโลกรัม ชาวสวนเก็บมะม่วงสองครั้งได้กี่กิโลกรัม


วิธีทำ ครั้งแรกชาวสวนเก็บมะม่วงได้ กิโลกรัม
 ครั้งที่สองเก็บมะม่วงได้ กิโลกรัม

ตอบ

- ② แม่จ่ายค่าอาหารในเดือนมกราคม 6,583 บาท ในเดือนกุมภาพันธ์จ่ายค่าอาหารมากกว่าเดือนมกราคม 975 บาท เดือนกุมภาพันธ์แม่จ่ายค่าอาหารกี่บาท

วิธีทำ แม่จ่ายค่าอาหารในเดือนมกราคม บาท
 เดือนกุมภาพันธ์จ่ายค่าอาหารมากกว่าเดือนมกราคม บาท

ตอบ



- 3 ดวงใจส่งหอมแดงไปขาย 3,285 กิโลกรัม ส่งหอมแดงไปขายน้อยกว่ากระเทียม 1,695 กิโลกรัม ดวงใจส่งกระเทียมไปขายกี่กิโลกรัม

วิธีทำ

ตอบ

- 4 เดือนธันวาคมมีนักเรียนมาชมท้องฟ้าจำลอง 8,956 คน ซึ่งน้อยกว่าเดือนพฤศจิกายน 1,098 คน เดือนพฤศจิกายนมีนักเรียนมาชมท้องฟ้าจำลองกี่คน

วิธีทำ

ตอบ



- 5 โรงงานผลิตน้ำดื่มส่งขายร้านค้าไป 4,739 ขวด
และยังเหลือน้ำอยู่ 1,266 ขวด โรงงานแห่งนี้ผลิตน้ำดื่ม
กี่ขวด


วิธีทำ

ตอบ

- 6 ห้องสมุดแห่งหนึ่งมีหนังสือต่างประเทศ 2,413 เล่ม
มีหนังสือภาษาไทยมากกว่าหนังสือต่างประเทศ 4,679 เล่ม
ห้องสมุดแห่งนี้มีหนังสือภาษาไทยกี่เล่ม

วิธีทำ

ตอบ



แบบฝึกหัด 3.19

1) หาผลลบ

$$\begin{array}{r} 1) \quad 15438 \quad - \\ \quad \quad 3106 \\ \hline \\ \hline \end{array}$$

$$\begin{array}{r} 2) \quad 32421 \quad - \\ \quad \quad 12111 \\ \hline \\ \hline \end{array}$$

$$\begin{array}{r} 3) \quad 35997 \quad - \\ \quad \quad 14655 \\ \hline \\ \hline \end{array}$$

$$\begin{array}{r} 4) \quad 78369 \quad - \\ \quad \quad 73153 \\ \hline \\ \hline \end{array}$$

2) แสดงวิธีทำ

$$1) \quad 59,626 - 17,322 = \square$$

.....

ตอบ

$$2) \quad 87,859 - 7,631 = \square$$

.....

ตอบ

$$3) \quad 84,984 - 61,352 = \square$$

.....

ตอบ

$$4) \quad 49,653 - 35,421 = \square$$

.....

ตอบ



แบบฝึกหัด 3.20

1) หาผลลบ

$$\begin{array}{r} 1) \quad 43462 _ \\ \quad 11385 \\ \hline \\ \hline \end{array}$$

$$\begin{array}{r} 2) \quad 27800 _ \\ \quad 2940 \\ \hline \\ \hline \end{array}$$

2) แสดงวิธีทำ

1) $45,520 - 29,651 =$

.....
.....
.....

ตอบ

2) $33,472 - 15,584 =$

.....
.....
.....

ตอบ

3) $22,575 - 16,578 =$

.....
.....
.....

ตอบ

4) $56,432 - 32,925 =$

.....
.....
.....

ตอบ

5) $53,462 - 13,387 =$

.....
.....
.....

ตอบ

6) $100,000 - 84,789 =$

.....
.....
.....

ตอบ



แบบฝึกหัด 3.21

เติมคำตอบ

- 1 แม่ซื้อตู้เย็นและพัดลมราคาารวมกัน 15,890 บาท ถ้าพัดลมราคา 3,750 บาท ตู้เย็นราคาเท่าใด

ตอบ

- 2 ทิวามีเงิน 100,000 บาท จ่ายค่าซ่อมบ้านไป 35,675 บาท ทิวาเหลือเงินเท่าไร

ตอบ

- 3 สวนผลไม้แห่งหนึ่งปลูกต้นทุเรียน 1,340 ต้น ปลูกต้นทุเรียนมากกว่าปลูกต้นมังคุด 256 ต้น สวนแห่งนี้ปลูกต้นมังคุดกี่ต้น

ตอบ

- 4 สัปดาห์แรกแม่ค้าขายของได้เงิน 24,810 บาท สัปดาห์ที่สองแม่ค้าขายของได้น้อยกว่าสัปดาห์แรก 7,937 บาท สัปดาห์ที่สองแม่ค้าขายของได้เงินเท่าไร

ตอบ

- 5 จำนวนใดน้อยกว่า 41,300 อยู่ 6,814

ตอบ



แบบฝึกหัด 3.22

แสดงวิธีทำ

- 1 สมบัติมีเงิน 27,145 บาท อภิชัยมีเงินน้อยกว่าสมบัติ 6,897 บาท อภิชัยมีเงินกี่บาท


วิธีทำ

ตอบ

- 2 แม่ปิ่นทำขนมทั้งหมด 6,040 ห่อ เป็นขนมกล้วย 3,460 ห่อ ที่เหลือเป็นขนมตาล มีขนมตาลกี่ห่อ

วิธีทำ

ตอบ



- ๓ ตำบลหนึ่งมีคนอาศัยอยู่เป็นชาย 4,857 คน มีชายมากกว่าหญิง 83 คน คนที่อาศัยอยู่เป็นหญิงกี่คน

วิธีทำ

ตอบ

- ๔ สุภาพทำงานได้รับเงินเดือน 25,680 บาท ซื่อของขวัญให้พ่อและแม่ 6,850 บาท สุภาพเหลือเงินเดือนกี่บาท

วิธีทำ

ตอบ

แบบฝึกหัด 3.23

เติมตัวเลขแสดงจำนวน เครื่องหมาย และสรุปคำตอบ

- 1 เดือนมีนาคมมีคนมาเที่ยวจังหวัดตาก 32,025 คน
เดือนเมษายนมีคนมาเที่ยวมากกว่าเดือนมีนาคม 2,376 คน
เดือนเมษายนมีคนมาเที่ยวจังหวัดตากกี่คน


วิธีทำ เดือนมีนาคมมีคนมาเที่ยวจังหวัดตาก คน
เดือนเมษายนมีคนมาเที่ยวมากกว่าเดือนมีนาคม คน
เดือนเมษายนมีคนมาเที่ยวจังหวัดตาก คน

ตอบ เดือนเมษายนมีคนมาเที่ยวจังหวัดตาก คน

- 2 สัปดาห์แรกฟาร์มจินดาขายไข่ไก่ได้ 23,455 ฟอง
สัปดาห์ที่สองขายได้มากกว่าสัปดาห์แรก 5,250 ฟอง
สัปดาห์ที่สองขายไข่ไก่ได้กี่ฟอง

วิธีทำ สัปดาห์แรกขายไข่ไก่ได้ ฟอง
สัปดาห์ที่สองขายได้มากกว่าสัปดาห์แรก ฟอง
..... ฟอง

ตอบ



- 3 โรงงานผลิตเงาะกระป๋อง 2,487 กระป๋อง ผลิตลำไยกระป๋อง ได้น้อยกว่าเงาะกระป๋อง 564 กระป๋อง โรงงานผลิตลำไย กระป๋องได้กี่กระป๋อง

วิธีทำ

.....
.....
.....
.....

ตอบ

.....

- 4 โรงงานผลิตน้ำดื่มได้ 32,500 ขวด ส่งร้านค้าไปแล้ว 23,400 ขวด โรงงานเหลือน้ำดื่มกี่ขวด

วิธีทำ

.....
.....
.....
.....

ตอบ

.....



แบบฝึกหัด 3.24

เติมตัวเลขแสดงจำนวน เครื่องหมาย และสรุปคำตอบ

- 1 ร้านค้าขายเทียนได้ 36,257 ห่อ ขายรูปได้มากกว่าเทียน 8,569 ห่อ ร้านค้าขายรูปได้กี่ห่อ


วิธีทำ ร้านค้าขายเทียนได้ _____ ห่อ
 ขายรูปได้มากกว่าเทียน _____ ห่อ
 _____ ห่อ

ตอบ _____

- 2 สมพรขายสับปะรดได้ 3,768 ผล ขายสับปะรดได้มากกว่าส้มโอ 859 ผล สมพรขายส้มโอได้กี่ผล

วิธีทำ สมพรขายสับปะรดได้ _____ ผล
 ขายสับปะรดได้มากกว่าส้มโอ _____ ผล
 _____ ผล

ตอบ _____



- 3 โรงงานต้องการผลิตกล่องกระดาษ 35,850 ใบ ผลิตได้แล้ว 12,500 ใบ โรงงานต้องผลิตกล่องกระดาษเพิ่มอีกกี่ใบ

วิธีทำ โรงงานต้องการผลิตกล่อง
ผลิตได้แล้ว

.....
.....
.....
.....

ตอบ

.....
.....
.....

- 4 ร้านค้าขายลีนจี้กระป๋องได้ 2,128 กระป๋อง ขายลีนจี้กระป๋องได้น้อยกว่าลำไยกระป๋อง 974 กระป๋อง ร้านค้าขายลำไยกระป๋องได้กี่กระป๋อง

วิธีทำ

.....
.....
.....
.....

ตอบ

.....



แบบฝึกหัด 3.25

แสดงวิธีทำ

1 $(5,480 - 2,959) + 2,479 = \square$


.....
.....
.....
.....
.....

ตอบ

2 $(13,078 + 1,298) - 6,057 = \square$

.....
.....
.....
.....
.....

ตอบ



3 $6,310 - (4,562 - 2,879) =$

.....
.....
.....
.....
.....
.....

ตอบ

4 $35,612 - (10,289 + 24,615) =$

.....
.....
.....
.....
.....
.....

ตอบ



แบบฝึกหัด 3.26

แสดงวิธีทำ

1 $(38,049 + 17,537) - 26,987 = \square$


.....
.....
.....
.....
.....

ตอบ

2 $85,426 + (82,971 - 76,495) = \square$

.....
.....
.....
.....
.....

ตอบ



3 $(67,597 - 62,693) - 4,785 = \square$

.....
.....
.....
.....
.....

ตอบ

4 $60,597 - (52,693 - 4,785) = \square$

.....
.....
.....
.....
.....

ตอบ



แบบฝึกหัด 3.27

เติมตัวเลขแสดงจำนวนและข้อความในช่องว่าง

- 1) โทรทัศน์ราคา 12,850 บาท ตู้เย็นราคามากกว่าโทรทัศน์ 6,990 บาท เครื่องซักผ้าราคาน้อยกว่าตู้เย็น 10,280 บาท เครื่องซักผ้าราคากี่บาท

1) โจทย์ถามอะไร

.....

2) โจทย์บอกอะไรบ้าง

.....

.....

.....

3) โทรทัศน์ราคา 12,850 บาท ตู้เย็นราคามากกว่า หรือน้อยกว่า 12,850 บาท
จะหาราคาตู้เย็นได้อย่างไร
และตู้เย็นราคาเท่าใด

4) เครื่องซักผ้าราคาน้อยกว่าตู้เย็น 10,280 บาท
จะหาราคาเครื่องซักผ้าได้อย่างไร
เครื่องซักผ้าราคาเท่าใด

5) สรุปคำตอบได้อย่างไร

.....

ตอบ



- ๒) โຕ้ะราคา 6,580 บาท ต้้ราคามากกว่าโຕ้ะ 3,690 บาท
เต้ยงราคามากกว่าต้้ 8,470 บาท เต้ยงราคาเก้บาท

ตอบ

- ๓) ป้นมีเงิน 100,000 บาท จ่ายค่าเหล็กดัด 28,965 บาท
และค่าม้งลวด 42,500 บาท ป้นเหลือเงินเก้บาท

ตอบ

- ๔) อ่าเภอหนึ่งมีประชากรทั้งหมด 23,619 คน เป็นประชากร
หญิง 13,584 คน อ่าเภอนี้้มีประชากรชายมากกว่า
หรือน้อยกว่าประชากรหญิงเก้คน

ตอบ

- ๕) สัปดาห์แรกโรงงานผลิตปลากระป๋องได้ 5,375 กระป๋อง
สัปดาห์ที่สองผลิตได้น้อยกว่าสัปดาห์แรก 580 กระป๋อง
โรงงานผลิตปลากระป๋องได้ทั้งหมดเก้กระป๋อง

ตอบ



แบบฝึกหัด 3.28

แสดงวิธีทำ

- 1 นิตยามีกระดาษสี 673 แผ่น ใช้ทำปกหนังสือ 367 แผ่น
ใช้ติดแฟ้มเอกสาร 295 แผ่น นิตยาเหลือกระดาษสีกี่แผ่น


<u>วิธีทำ</u>	นิตยามีกระดาษสี	แผ่น
	ใช้ทำปกหนังสือ	แผ่น
	เหลือกระดาษสี	แผ่น
	ใช้ติดแฟ้มเอกสาร	แผ่น
	นิตยาเหลือกระดาษสี	แผ่น

ตอบ

- 2 สมศรีซื้อดอกกุหลาบ 1,200 ดอก ขายไป 1,125 ดอก
ซื้อมาเพิ่มอีก 400 ดอก ขณะนี้สมศรีมีดอกกุหลาบกี่ดอก

<u>วิธีทำ</u>	สมศรีซื้อดอกกุหลาบ	ดอก
	ขายไป	ดอก

ตอบ



- 3 ร้าน ก.พาณิชย์ ขายจานได้ 12,500 ใบ ขายชามน้อยกว่าจาน 1,200 ใบ ร้าน ก.พาณิชย์ขายจานและชามได้ทั้งหมดกี่ใบ

วิธีทำ

ตอบ

- 4 ร้านค้าขายโทรศัพท์มือถือครั้งแรกได้ 32,450 เครื่อง ครั้งที่สองขายได้มากกว่าครั้งแรก 3,540 เครื่อง ร้านค้าขายโทรศัพท์มือถือสองครั้งได้ทั้งหมดกี่เครื่อง

วิธีทำ

ตอบ



แบบฝึกหัด 3.29

แสดงวิธีทำ

- 1) สุดามีเงินอยู่ 12,600 บาท ซื้อโทรทัศน์ราคา 8,999 บาท และพัดลมราคา 1,895 บาท สุดาเหลือเงินกี่บาท

<u>วิธีทำ</u>	สุดามีเงินอยู่	บาท
	ซื้อโทรทัศน์ราคา	บาท
	สุดาเหลือเงิน	บาท
	ซื้อพัดลมราคา	บาท
	สุดาเหลือเงิน	บาท

ตอบ

- 2) ลุงทำนาข้าวเหนียวได้ 1,578 ถัง และทำนาข้าวเจ้าได้มากกว่าข้าวเหนียว 1,908 ถัง ลุงทำนาข้าวเหนียวและข้าวเจ้าได้ทั้งหมดกี่ถัง

วิธีทำ

.....

.....


.....

.....

.....

.....

ตอบ



- ๓ ครั้งแรกชาวสวนเก็บมะม่วงได้ 5,874 กิโลกรัม
เก็บครั้งที่สองได้น้อยกว่าครั้งแรก 985 กิโลกรัม
ชาวสวนเก็บมะม่วงทั้งสองครั้งได้กี่กิโลกรัม

วิธีทำ

ตอบ

- ๔ ร้านค้าขายแผ่นเพลงลูกกรุงได้ 6,789 แผ่น และขายได้น้อยกว่าแผ่นเพลงลูกทุ่ง 2,065 แผ่น ร้านค้าแห่งนี้ขายแผ่นเพลงลูกกรุงและลูกทุ่งได้ทั้งหมดกี่แผ่น

วิธีทำ

ตอบ



แบบฝึกหัด 3.30

- 1 จากโจทย์ต่อไปนี้ สร้างโจทย์ปัญหาและหาคำตอบ
อย่างละ 1 ข้อ

1) $357 + 459 = \square$

.....
.....
.....

ตอบ

2) $1,000 - 299 = \square$


.....
.....
.....

ตอบ

3) $(2,500 + 3,000) - 4,800 = \square$

.....
.....
.....

ตอบ



2 จากภาพ สร้างโจทย์ปัญหาการบวก การลบ การบวกลบระคน และการหาคำตอบอย่างละ 1 ข้อ



999 บาท



3,489 บาท



19,999 บาท

1) โจทย์ปัญหาการบวก

.....
.....
.....

ตอบ

2) โจทย์ปัญหาการลบ

.....
.....
.....

ตอบ

3) โจทย์ปัญหาการบวกลบระคน

.....
.....
.....

ตอบ




หน่วยที่ ๒ การดำเนินการของจำนวน

การบวก การลบ



A large, vertically oriented rectangular area with a scalloped, torn-paper edge. The interior is light beige and contains 18 horizontal dashed blue lines for writing.



หน่วยที่ ๒ การดำเนินการของจำนวน การบวก การลบ



A large, vertically oriented rectangular area with a light beige background and a decorative, wavy border. It contains 18 horizontal dashed blue lines, providing a space for writing or recording information.



หน่วยที่ ๒ การดำเนินการของจำนวน

การบวก การลบ



A large rectangular area with a scalloped border, containing horizontal dashed lines for writing.



เฉลิมพระเกียรติ โครงการจัดทำสื่อ ๒๐ พรรษา สมเด็จพระเทพรัตนราชสุดาฯ สยามบรมราชกุมารี



เฉลิมพระเกียรติ โครงการจัดทำสื่อ ๒๐ พรรษา สมเด็จพระเทพรัตนราชสุดาฯ สยามบรมราชกุมารี

ชุดกิจกรรมการเรียนรู้ (สำหรับนักเรียน)

ระดับก้าวหน้า

กลุ่มสาระการเรียนรู้คณิตศาสตร์

หน่วยการเรียนรู้ที่ ๒.๑

การบวก การลบ

ชั้นประถมศึกษาปีที่ ๑-๓



ชื่อ - นามสกุล.....เลขที่.....

โรงเรียน.....