



เฉลิมพระเกียรติ สมเด็จพระเทพรัตนราชสุดาฯ สยามบรมราชกุมารี
โครงการจัดทำสื่อ ๖๐ พรรษา

ชุดกิจกรรมการเรียนรู้ (สำหรับนักเรียน) ระดับพื้นฐาน

กลุ่มสาระการเรียนรู้คณิตศาสตร์

หน่วยการเรียนรู้ที่ ๒ การดำเนินการของจำนวน

หน่วยย่อยที่ ๒.๑ การบวก การลบ

ชั้นประถมศึกษาปีที่ ๑-๓







สารบัญ

เรื่อง	หน้า
แบบฝึกหัด 1.1	1
แบบฝึกหัด 1.2	3
แบบฝึกหัด 1.3	4
แบบฝึกหัด 1.4	6
แบบฝึกหัด 1.5	9
แบบฝึกหัด 1.6	12
แบบฝึกหัด 1.7	14
แบบฝึกหัด 1.8	15
แบบฝึกหัด 1.9	16
แบบฝึกหัด 1.10	17
แบบฝึกหัด 1.11	18
แบบฝึกหัด 1.12	20
แบบฝึกหัด 1.13	22
แบบฝึกหัด 1.14	23
แบบฝึกหัด 1.15	24
แบบฝึกหัด 1.16	25
แบบฝึกหัด 1.17	26
แบบฝึกหัด 1.18	28
แบบฝึกหัด 1.19	30
แบบฝึกหัด 1.20	31
แบบฝึกหัด 1.21	32
แบบฝึกหัด 1.22	33
แบบฝึกหัด 1.23	34





















สารบัญ (ต่อ)

เรื่อง	หน้า
แบบฝึกหัด 1.24	35
แบบฝึกหัด 1.25	36
แบบฝึกหัด 1.26	38
แบบฝึกหัด 1.27	40
แบบฝึกหัด 1.28	42
แบบฝึกหัด 1.29	45
แบบฝึกหัด 1.30	48
แบบฝึกหัด 1.31	50
แบบฝึกหัด 1.32	51
แบบฝึกหัด 1.33	54



แบบฝึกหัด 1.1

1 เติมจำนวนใน

1 + 1 =

1 + =

1 + =

1 + =

1 + =

+ =










+ =

+ =

+ =



2) เติมจำนวนในประโยคการบวกที่สอดคล้องกับสถานการณ์

<p>1)</p> 	
<p>2)</p> 	
<p>3)</p> 	
<p>4)</p> 	
<p>5)</p> 	

+ =

+ =

+ =

+ =

+ =



แบบฝึกหัด 1.2

หาผลบวก

1 $3 + 3 = \square$

2 $4 + 4 = \square$

3 $1 + 6 = \square$

4 $6 + 2 = \square$

5 $8 + 2 = \square$

6 $3 + 7 = \square$

7
$$\begin{array}{r} 1 \\ + \\ 4 \\ \hline \\ \hline \end{array}$$

8
$$\begin{array}{r} 5 \\ + \\ 3 \\ \hline \\ \hline \end{array}$$

9
$$\begin{array}{r} 6 \\ + \\ 4 \\ \hline \\ \hline \end{array}$$

10
$$\begin{array}{r} 2 \\ + \\ 5 \\ \hline \\ \hline \end{array}$$



แบบฝึกหัด 1.3

1) หาผลบวก

$$\begin{array}{r} 1) \quad 8 \\ + \quad 2 \\ \hline \\ \hline \end{array}$$

$$\begin{array}{r} 2) \quad 6 \\ + \quad 12 \\ \hline \\ \hline \end{array}$$

$$\begin{array}{r} 3) \quad 3 \\ + \quad 13 \\ \hline \\ \hline \end{array}$$

$$\begin{array}{r} 4) \quad 5 \\ + \quad 14 \\ \hline \\ \hline \end{array}$$

$$\begin{array}{r} 5) \quad 11 \\ + \quad 7 \\ \hline \\ \hline \end{array}$$

$$\begin{array}{r} 6) \quad 15 \\ + \quad 3 \\ \hline \\ \hline \end{array}$$

$$\begin{aligned} 7) \quad 9 + 7 &= \boxed{9} + \boxed{1} + \boxed{6} \\ &= \boxed{\quad} + \boxed{6} \\ &= \boxed{\quad} \end{aligned}$$

$$\begin{aligned} 8) \quad 5 + 8 &= \boxed{5} + \boxed{5} + \boxed{3} \\ &= \boxed{\quad} + \boxed{3} \\ &= \boxed{\quad} \end{aligned}$$



๒ เติมจำนวนใน

$$1) \quad 13 + 6 = \square$$

$$6 + 13 = \square$$

$$13 + \square = 6 + 13$$

$$2) \quad 8 + 5 = 5 + \square$$

$$3) \quad 3 + \square = 9 + 3$$

$$4) \quad 2 + \square = 7 + \square$$

$$5) \quad \square + 5 = \square + 14$$



แบบฝึกหัด 1.4

หาผลบวก

$$\begin{aligned} \textcircled{1} \quad 3 + 7 + 5 &= \boxed{3} + \boxed{7} + \boxed{5} \\ &= \boxed{} + \boxed{5} \\ &= \boxed{} \end{aligned}$$

$$\begin{aligned} \textcircled{2} \quad 5 + 8 + 5 &= \boxed{} + \boxed{} + \boxed{8} \\ &= \boxed{} + \boxed{8} \\ &= \boxed{} \end{aligned}$$

$$\begin{aligned} \textcircled{3} \quad 9 + 6 + 1 &= \boxed{} + \boxed{} + \boxed{} \\ &= \boxed{} + \boxed{} \\ &= \boxed{} \end{aligned}$$



$$\begin{aligned} \textcircled{4} \quad 4 + 2 + 6 &= \square + \square + \square \\ &= \square + \square \\ &= \square \end{aligned}$$

$$\begin{aligned} \textcircled{5} \quad 6 + 8 + 4 &= \square + \square + \square \\ &= \square + \square \\ &= \square \end{aligned}$$

$$\begin{aligned} \textcircled{6} \quad 5 + 4 + 9 &= \square + \boxed{9} \\ &= \square \end{aligned}$$

$$\begin{aligned} \textcircled{7} \quad 7 + 2 + 6 &= \boxed{7} + \square \\ &= \square \end{aligned}$$



$$\begin{aligned} \textcircled{8} \quad 11 + 3 + 6 &= \square + \square \\ &= \square \end{aligned}$$

$$\begin{aligned} \textcircled{9} \quad 6 + 6 + 6 &= \square + \square \\ &= \square \end{aligned}$$

$$\begin{aligned} \textcircled{10} \quad 13 + 2 + 5 &= \square + \square \\ &= \square \end{aligned}$$


$$\begin{aligned} \textcircled{11} \quad 8 + 9 + 3 &= \square + \square \\ &= \square \end{aligned}$$



แบบฝึกหัด 1.5

1) เติมจำนวนใน และเครื่องหมายใน



1) มีเป็ดอยู่ในบ่อน้ำ 4 ตัว และมีเป็ดยืนอยู่ข้างบ่อน้ำ 3 ตัว มีเป็ดทั้งหมดกี่ตัว



+ =

ตอบ มีเป็ดทั้งหมด ตัว

2) ป่าแจนเลี้ยงวัว 5 ตัว เลี้ยงแกะ 6 ตัว ป่าแจนเลี้ยงวัว และแกะทั้งหมดกี่ตัว




○ =

ตอบ ป่าแจนเลี้ยงวัวและแกะทั้งหมด ตัว




3) ภาขายเสื้อได้ 11 ตัว ขายกางเกงได้มากกว่าเสื้อ 3 ตัว
ภาขายกางเกงได้กี่ตัว



$$\square \ominus \square = \square$$


ตอบ ภาขายกางเกงได้ ตัว

4) แพร่ซื้อส้มโอ 14 ผล ซื้อส้มโอน้อยกว่ามะม่วง 3 ผล
แพร่ซื้อมะม่วงกี่ผล



$$\square \ominus \square = \square$$

ตอบ แพร่ซื้อมะม่วง ผล



2 แสดงวิธีทำ

1) ต้นมี  11 ลูก มี  7 ลูก ต้นมีลูกโป่ง
ทั้งหมดกี่ลูก

วิธีทำ ต้นมี  ลูก
มี  ลูก
ต้นมีลูกโป่งทั้งหมด ลูก
===== ลูก

ตอบ ต้นมีลูกโป่งทั้งหมด ลูก

2) ยายมี  7 ดอก ยายมี  มากกว่า
 6 ดอก ยาย  กี่ดอก

วิธีทำ ยายมี  ดอก
ยายมี  มากกว่าดอก  ดอก
ยายมี  ดอก
===== ดอก


ตอบ ยายมี  ดอก



แบบฝึกหัด 1.6


เติมคำตอบใน

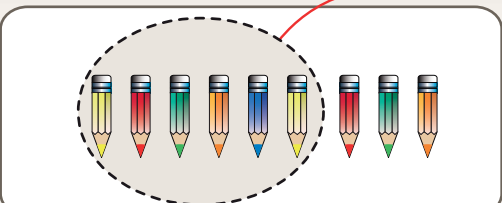
1 จันมีมะม่วง 5 ผล
 กินมะม่วงไป 2 ผล
 เหลือมะม่วง ผล




2 แม่มีดอกไม้ 8 ดอก
 ให้ดอกไม้เพื่อนไป 4 ดอก
 แม่เหลือดอกไม้ ดอก



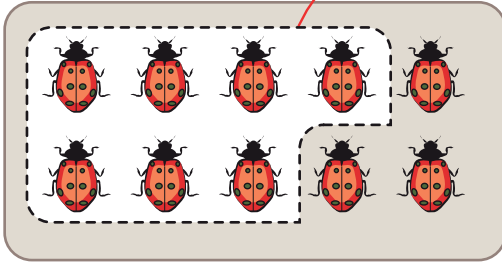
3  $7 - 3 = \square$

4  $9 - 6 = \square$

5  $8 - 1 = \square$

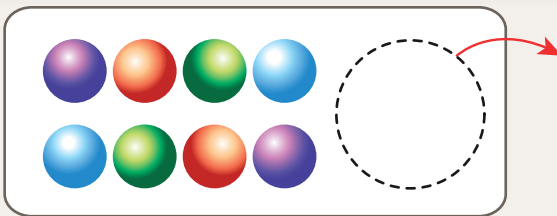


6



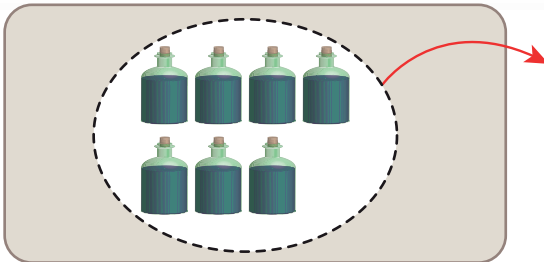
$$10 - 7 = \square$$

7



$$8 - 0 = \square$$

8



$$7 - 7 = \square$$

9

$$3 - 3 = \square$$

$$3 - 0 = \square$$

10

$$9 - 9 = \square$$

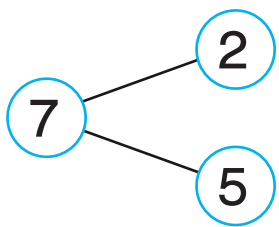
$$9 - 0 = \square$$



แบบฝึกหัด 1.7

หาผลลบ

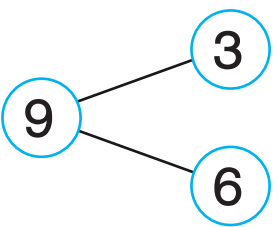
1



$$7 - 2 = \square$$

$$7 - 5 = \square$$

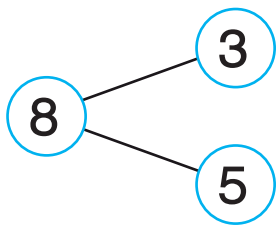
2



$$9 - 3 = \square$$

$$9 - 6 = \square$$

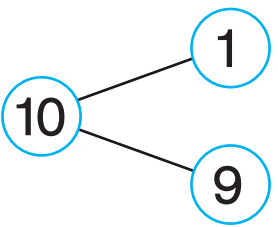
3



$$8 - 3 = \square$$

$$8 - 5 = \square$$

4



$$10 - 1 = \square$$

$$10 - 9 = \square$$

5

$$\begin{array}{r} 9 \\ \underline{5} \\ \hline \end{array}$$

6

$$\begin{array}{r} 6 \\ \underline{3} \\ \hline \end{array}$$

7

$$\begin{array}{r} 7 \\ \underline{7} \\ \hline \end{array}$$

8

$$\begin{array}{r} 1 \\ \underline{0} \\ \hline \end{array}$$

9

$$\begin{array}{r} 9 \\ \underline{8} \\ \hline \end{array}$$

10


$$\begin{array}{r} 8 \\ \underline{2} \\ \hline \end{array}$$



แบบฝึกหัด 1.8


หาผลลบ

1




16 - 4 = _____

2



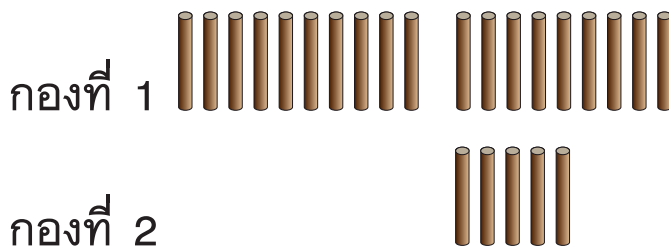
18 - 7 = _____

3



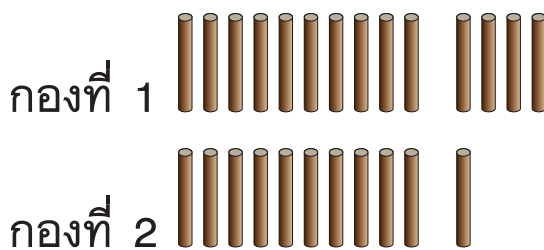
13 - 6 = _____

4



19 - 5 = _____

5



14 - 11 = _____



แบบฝึกหัด 1.9

หาผลลบ

1 $13 - 2 = \dots\dots\dots$

2 $12 - 6 = \dots\dots\dots$

3 $15 - 3 = \dots\dots\dots$

4 $11 - 8 = \dots\dots\dots$

5 $17 - 4 = \dots\dots\dots$

6 $15 - 6 = \dots\dots\dots$

7 $18 - 1 = \dots\dots\dots$

8 $12 - 8 = \dots\dots\dots$

9 $19 - 6 = \dots\dots\dots$

10 $17 - 9 = \dots\dots\dots$

11 $12 - 2 = \dots\dots\dots$

12 $15 - 8 = \dots\dots\dots$

13 $18 - 5 = \dots\dots\dots$

14 $14 - 9 = \dots\dots\dots$

15 $14 - 3 = \dots\dots\dots$

16 $18 - 18 = \dots\dots\dots$



แบบฝึกหัด 1.10

หาผลบวกหรือผลลบ

1

$$\begin{array}{r} 8 \\ + \\ 7 \\ \hline \\ \hline \end{array}$$

2

$$\begin{array}{r} 15 \\ - \\ 7 \\ \hline \\ \hline \end{array}$$

3

$$\begin{array}{r} 15 \\ - \\ 5 \\ \hline \\ \hline \end{array}$$

4

$$\begin{array}{r} 19 \\ - \\ 6 \\ \hline \\ \hline \end{array}$$

5

$$\begin{array}{r} 13 \\ + \\ 6 \\ \hline \\ \hline \end{array}$$

6

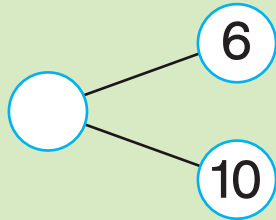
$$\begin{array}{r} 11 \\ + \\ 7 \\ \hline \\ \hline \end{array}$$



แบบฝึกหัด 1.11

เติมจำนวนใน  และช่องว่าง

1

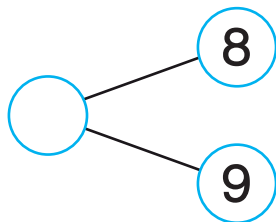


$6 + 10 = \dots\dots$

$\text{circle} - 6 = \dots\dots$

$\text{circle} - 10 = \dots\dots$

2

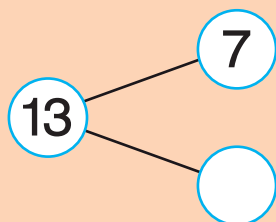


$8 + 9 = \dots\dots$

$\text{circle} - 8 = \dots\dots$

$\text{circle} - 9 = \dots\dots$

3

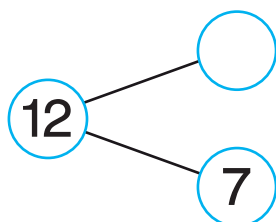


$7 + \text{circle} = 13$

$13 - 7 = \dots\dots$

$13 - \text{circle} = 7$

4



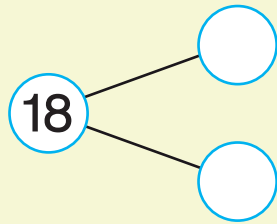
$\text{circle} + 7 = 12$

$12 - 7 = \dots\dots$

$12 - \text{circle} = 7$



5



$$\begin{array}{r} \bigcirc + \bigcirc = \bigcirc \\ \bigcirc - \bigcirc = \bigcirc \\ \bigcirc - \bigcirc = \bigcirc \end{array}$$

6

$$19 - \bigcirc = 12$$

7

$$\bigcirc - 6 = 8$$

8

$$15 - \bigcirc = 11$$

9

$$12 - \bigcirc = 9$$

10

$$16 - \bigcirc = 8$$

11

$$\bigcirc - 7 = 4$$

12

$$15 - \bigcirc = 7$$

13

$$\bigcirc - 4 = 9$$



แบบฝึกหัด 1.12


หาคำตอบ

1 มาลินมีลูกโป่ง 10 ลูก แดกไป 6 ลูก เหลือลูกโป่งกี่ลูก




ตอบ เหลือลูกโป่ง ลูก

2 ยายปลูกต้นมะลิ 12 ต้น ออกดอกแล้ว 4 ต้น มีต้นมะลิที่ยังไม่ออกดอกกี่ต้น



ตอบ มีต้นมะลิที่ยังไม่ออกดอก ต้น

3 อุไรมีหนังสือนิทาน 15 เล่ม อ่านไปแล้ว 8 เล่ม เหลือที่ยังไม่ได้อ่านกี่เล่ม



ตอบ เหลือที่ยังไม่ได้อ่าน เล่ม

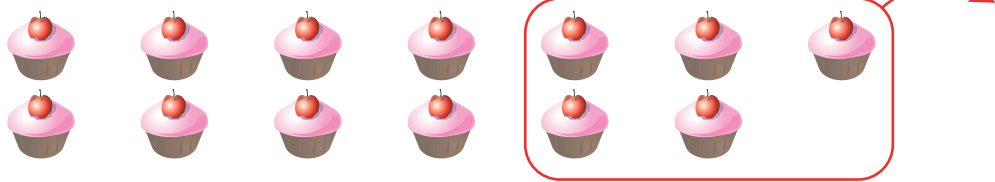


๔ ป้าเลี้ยงไก่ 14 ตัว เป็นไก่ตัวผู้ 4 ตัว เป็นไก่ตัวเมียกี่ตัว




ตอบ เป็นไก่ตัวเมีย ตัว

๕ พี่ซื้อขนมมา 13 ชิ้น แบ่งให้น้อง 5 ชิ้น พี่เหลือขนมกี่ชิ้น



ตอบ พี่เหลือขนม ชิ้น

๖ มีเก้าอี้ 17 ตัว นักเรียนนั่งไปแล้ว 8 ตัวเหลือเก้าอี้ว่างกี่ตัว



ตอบ เหลือเก้าอี้ว่าง ตัว

๗ พี่ระมีแสตมป์ต่างประเทศ 20 ดวง ให้เพื่อนไป 7 ดวง พี่ระเหลือแสตมป์กี่ดวง



ตอบ พี่ระเหลือแสตมป์ ดวง



แบบฝึกหัด 1.13

1) เติมตัวเลขแสดงจำนวนใน ให้ถูกต้อง

$$\begin{aligned}
 1) \quad 25 + 1 &= \boxed{20} + \boxed{} + 1 \\
 &= \boxed{20} + \boxed{} \\
 &= \boxed{}
 \end{aligned}$$

$$\begin{aligned}
 2) \quad 43 + 4 &= 40 + \boxed{} + \boxed{} \\
 &= 40 + \boxed{} \\
 &= \boxed{}
 \end{aligned}$$

$$\begin{aligned}
 3) \quad 81 + 8 &= 80 + 1 + 8 \\
 &= \boxed{} + \boxed{} \\
 &= \boxed{}
 \end{aligned}$$

2) หาผลบวก

$$1) \quad 42 + 3 = \boxed{}$$

$$2) \quad 71 + 4 = \boxed{}$$

$$3) \quad 66 + 2 = \boxed{}$$

$$4) \quad 6 + 82 = \boxed{}$$

$$5) \quad 4 + 84 = \boxed{}$$

$$6) \quad 7 + 91 = \boxed{}$$



แบบฝึกหัด 1.14

1) หาผลบวก

<p>1) $\begin{array}{r} 22 \\ + 4 \\ \hline \\ \hline \end{array}$</p>	<p>2) $\begin{array}{r} 30 \\ + 8 \\ \hline \\ \hline \end{array}$</p>
<p>3) $\begin{array}{r} 64 \\ + 5 \\ \hline \\ \hline \end{array}$</p>	<p>4) $\begin{array}{r} 1 \\ + 87 \\ \hline \\ \hline \end{array}$</p>

2) แสดงวิธีทำ

<p>1) $56 + 3 = \square$</p> <p>.....</p> <p>.....</p> <p>.....</p> <p><i>ตอบ</i></p>	<p>2) $32 + 6 = \square$</p> <p>.....</p> <p>.....</p> <p>.....</p> <p><i>ตอบ</i></p>
<p>3) $42 + 5 = \square$</p> <p>.....</p> <p>.....</p> <p>.....</p> <p><i>ตอบ</i></p>	<p>4) $75 + 3 = \square$</p> <p>.....</p> <p>.....</p> <p>.....</p> <p><i>ตอบ</i></p>



แบบฝึกหัด 1.15

1) หาผลบวก

$$\begin{array}{r} 1) \quad 35 \\ \quad + \\ \quad 21 \\ \hline \\ \hline \end{array}$$

$$\begin{array}{r} 2) \quad 62 \\ \quad + \\ \quad 15 \\ \hline \\ \hline \end{array}$$

$$\begin{array}{r} 3) \quad 54 \\ \quad + \\ \quad 25 \\ \hline \\ \hline \end{array}$$

$$\begin{array}{r} 4) \quad 46 \\ \quad + \\ \quad 33 \\ \hline \\ \hline \end{array}$$

$$\begin{array}{r} 5) \quad 37 \\ \quad + \\ \quad 21 \\ \hline \\ \hline \end{array}$$

$$\begin{array}{r} 6) \quad 72 \\ \quad + \\ \quad 17 \\ \hline \\ \hline \end{array}$$

2) แสดงวิธีทำ

1) $43 + 43 = \square$

.....

ตอบ

2) $28 + 50 = \square$

.....

ตอบ

3) $36 + 21 = \square$

.....

ตอบ

4) $65 + 34 = \square$

.....

ตอบ

5) $63 + 24 = \square$

.....

ตอบ

6) $70 + 23 = \square$

.....

ตอบ



แบบฝึกหัด 1.16

แสดงวิธีทำ

1 $34 + 45 = \square$

$$\begin{array}{r} 34 \\ + 45 \\ \hline \\ \hline \end{array}$$

ตอบ

2 $64 + 23 = \square$

$$\begin{array}{r} 64 \\ + 23 \\ \hline \\ \hline \end{array}$$

ตอบ

3 $23 + 14 = \square$

$$\begin{array}{r} 23 \\ + 14 \\ \hline \\ \hline \end{array}$$

ตอบ

4 $50 + 31 = \square$

$$\begin{array}{r} 50 \\ + 31 \\ \hline \\ \hline \end{array}$$

ตอบ

5 $42 + 26 = \square$

$$\begin{array}{r} 42 \\ + 26 \\ \hline \\ \hline \end{array}$$

ตอบ

6 $53 + 36 = \square$

$$\begin{array}{r} 53 \\ + 36 \\ \hline \\ \hline \end{array}$$

ตอบ

7 $70 + 19 = \square$

$$\begin{array}{r} 70 \\ + 19 \\ \hline \\ \hline \end{array}$$

ตอบ

8 $82 + 17 = \square$

$$\begin{array}{r} 82 \\ + 17 \\ \hline \\ \hline \end{array}$$

ตอบ



แบบฝึกหัด 1.17

1 แสดงวิธีทำ

1) $15 + 30 + 21 = \square$

.....
.....
.....
.....

ตอบ

2) $31 + 32 + 6 = \square$

.....
.....
.....
.....

ตอบ

3) $24 + 40 + 15 = \square$

.....
.....
.....
.....

ตอบ

4) $11 + 21 + 41 = \square$

.....
.....
.....
.....

ตอบ

5) $23 + 11 + 14 = \square$

.....
.....
.....
.....

ตอบ

6) $40 + 16 + 33 = \square$

.....
.....
.....
.....

ตอบ



๒ ทหาผลบวก

$$1) \quad 21 + 22 + 23 = \square$$

$$2) \quad 32 + 20 + 35 = \square$$

$$3) \quad 17 + 31 + 21 = \square$$

$$4) \quad 24 + 22 + 42 = \square$$









แบบฝึกหัด 1.18

เติมคำตอบ

1 มี  15 ตัว  บินมาอีก 3 ตัว มี 
ทั้งหมดกี่ตัว

ตอบ มี  ทั้งหมด ตัว

2 อามี  14 ดอก มี  12 ดอก อามี  และ 
ทั้งหมดกี่ดอก


ตอบ อามี  และ  ทั้งหมด ดอก




3 แม่ชื้อ  15 ผล และชื้อ  10 ผล แม่ชื้อ 
และ  ทั้งหมดกี่ผล


ตอบ แม่ชื้อ  และชื้อ  ผล



4 ครุมี  18 ชิ้น กานให้  อีก 11 ชิ้น ครุมี 
กี่ชิ้น

ตอบ ครุมี  ชิ้น

5 ป้าเลี้ยง  26 ตัว หลานให้  มาอีก 12 ตัว
ป้ามี  กี่ตัว

ตอบ ป้ามี  ตัว

6 พ่อค้าขาย  ได้ 33 แท่ง และขาย  ได้อีก 34
แท่งพ่อค้าขาย  ทั้งหมดกี่แท่ง

ตอบ พ่อค้าขาย  ทั้งหมด แท่ง



แบบฝึกหัด 1.19

เติมคำตอบ

- 1 แม่ค้าขายส้มโอได้ 24 ผล และขายแตงโมได้ 31 ผล
แม่ค้าขายผลไม้ได้ทั้งหมดกี่ผล

ตอบ แม่ค้าขายผลไม้ได้ทั้งหมด ผล

- 2 นทีสะสมรูปดอกไม้ 36 รูป และรูปดอกไม้ 30 รูป
นทีสะสมรูปดอกไม้ทั้งหมดกี่รูป

ตอบ นทีสะสมรูปดอกไม้ทั้งหมด รูป

- 3 ป้าดาเลี้ยงไก่ 61 ตัว ซื้อมาเพิ่มอีก 37 ตัว ป้าดามีไก่
ทั้งหมดกี่ตัว

ตอบ ป้าดามีไก่ทั้งหมด ตัว

- 4 เมื่อวานนี้กันอ่านหนังสือได้ 14 หน้า วันนี้อ่านได้มากกว่า
เมื่อวานนี้ 15 หน้า วันนี้กันอ่านหนังสือได้กี่หน้า

ตอบ วันนี้กันอ่านหนังสือได้ หน้า

- 5 ตอนเช้าพ่อค้าขายทุเรียนได้ 41 ผล ตอนเช้าขายทุเรียนได้
น้อยกว่าตอนบ่าย 48 ผล ตอนบ่ายพ่อค้าขายทุเรียนได้
ทั้งหมดกี่ผล

ตอบ ตอนบ่ายพ่อค้าขายทุเรียนได้ทั้งหมด ผล



แบบฝึกหัด 1.20

เติมตัวเลขแสดงจำนวน เครื่องหมายและเติมคำตอบ

- 1 ห้อง ป.1/1 มีนักเรียนชาย 15 คน มีนักเรียนหญิง 14 คน
ห้อง ป.1/1 มีนักเรียนทั้งหมดกี่คน

<u>วิธีทำ</u>	ห้อง ป.1/1 มีนักเรียนชาย		คน
	มีนักเรียนหญิง		คน
	ห้อง ป.1/1 มีนักเรียนทั้งหมด		คน

ตอบ ห้อง ป.1/1 มีนักเรียนทั้งหมด คน

- 2 ในสมุดภาพมีรูปดอกไม้ 21 รูป มีรูปนกมากกว่ารูปดอกไม้ 15 รูป ในสมุดภาพมีรูปนกกี่รูป

<u>วิธีทำ</u>	ในสมุดภาพมีรูปดอกไม้		รูป
	มีรูปนกมากกว่ารูปดอกไม้		รูป
	ในสมุดภาพมีรูปนก		รูป

ตอบ ในสมุดภาพมีรูปนก รูป

- 3 แม่ค้าขายพวงมาลัยตอนเช้าได้ 40 พวง ตอนเช้าขายได้น้อยกว่าตอนบ่าย 24 พวง แม่ค้าขายพวงมาลัยตอนบ่ายได้กี่พวง

<u>วิธีทำ</u>	แม่ค้าขายพวงมาลัยตอนเช้าได้		พวง
	ตอนเช้าขายได้น้อยกว่าตอนบ่าย		พวง
	ตอนบ่ายแม่ค้าขายพวงมาลัยได้		พวง

ตอบ ตอนบ่ายแม่ค้าขายพวงมาลัยได้ พวง



แบบฝึกหัด 1.21

1) หาผลลบ

$$\begin{array}{r} 1) \quad 49 \quad - \\ \quad \quad 6 \\ \hline \\ \hline \end{array}$$

$$\begin{array}{r} 2) \quad 89 \quad - \\ \quad \quad 54 \\ \hline \\ \hline \end{array}$$

$$\begin{array}{r} 3) \quad 58 \quad - \\ \quad \quad 21 \\ \hline \\ \hline \end{array}$$

$$\begin{array}{r} 4) \quad 65 \quad - \\ \quad \quad 24 \\ \hline \\ \hline \end{array}$$

2) แสดงวิธีทำ

$$1) \quad 78 - 6 = \square$$

.....

.....

.....

.....

$$2) \quad 57 - 36 = \square$$

.....

.....

.....

.....

$$3) \quad 99 - 79 = \square$$

.....

.....

.....

.....

$$4) \quad 95 - 20 = \square$$

.....

.....

.....

.....



แบบฝึกหัด 1.22

1 ทหาผลลบ

$$\begin{array}{r} 1) \quad 68 \quad - \\ \quad \quad 5 \\ \hline \\ \hline \end{array}$$

$$\begin{array}{r} 2) \quad 85 \quad - \\ \quad \quad 62 \\ \hline \\ \hline \end{array}$$

$$\begin{array}{r} 3) \quad 45 \quad - \\ \quad \quad 15 \\ \hline \\ \hline \end{array}$$

$$\begin{array}{r} 4) \quad 52 \quad - \\ \quad \quad 30 \\ \hline \\ \hline \end{array}$$

2 แสดงวิธีทำ

$$1) \quad 79 - 6 = \square$$

.....

.....

.....

.....

$$2) \quad 64 - 52 = \square$$

.....

.....

.....

.....

$$3) \quad 89 - 32 = \square$$

.....

.....

.....

.....

$$4) \quad 73 - 31 = \square$$

.....

.....

.....

.....



แบบฝึกหัด 1.23

เติมคำตอบในช่องว่าง

1 ฟีมี่  12 ชิ้น ให้น้องไป 7 ชิ้น ฟีมี่เหลือ 
กี่ชิ้น



ตอบ ฟีมี่เหลือ  ชิ้น

2 อามี  18 ดอก สุมี่  น้อยกว่าอามี 4 ดอก
สุมี่  กี่ดอก

ตอบ สุมี่  ดอก

3 แม่ค้ามี  25 ผล มี  มากกว่า  12 ผล
แม่ค้ามี  กี่ผล

ตอบ แม่ค้ามี  ผล

4 ป้าทำ  36 ชิ้น แบ่งให้หลาน 15 ชิ้น ป้าเหลือ 
กี่ชิ้น

ตอบ ป้าเหลือ  ชิ้น



แบบฝึกหัด 1.24

เติมคำตอบ

- 1 ครูมีดินสออยู่ 56 แท่ง แจกนักเรียน 25 แท่ง
ครูเหลือดินสอกี่แท่ง

ตอบ ครูเหลือดินสอ แท่ง

- 2 แม่ค้ามีแตงโม 79 ผล ขายไป 36 ผล
แม่ค้าเหลือแตงโมกี่ผล

ตอบ แม่ค้าเหลือแตงโม ผล

- 3 สมบัติมีไก่ทั้งหมด 99 ตัว เป็นไก่ตัวเมีย 54 ตัว
เป็นไก่ตัวผู้กี่ตัว

ตอบ เป็นไก่ตัวผู้ ตัว

- 4 พ่อค้าขายเสื้อและกางเกงรวม 39 ตัว เป็นกางเกง 15 ตัว
พ่อค้าขายเสื้อได้กี่ตัว

ตอบ พ่อค้าขายเสื้อได้ ตัว

- 5 ลุงต้องการปลูกต้นกล้วย 27 ต้น ปลูกไปแล้ว 7 ต้น
ลุงต้องปลูกต้นกล้วยเพิ่มอีกกี่ต้น

ตอบ ลุงต้องปลูกต้นกล้วยเพิ่มอีก ต้น



แบบฝึกหัด 1.25

เติมตัวเลขแสดงจำนวน เครื่องหมาย และสรุปคำตอบ

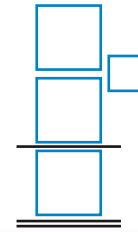
- 1 แม่ค้าทำขนมกล้วย 56 ห่อ ขายขนมกล้วยไป 45 ห่อ
แม่ค้าเหลือขนมกล้วยกี่ห่อ

วิธีทำ

แม่ค้าทำขนมกล้วย

ขายขนมกล้วยไป

แม่ค้าเหลือขนมกล้วย



ห่อ

ห่อ

ห่อ

ตอบ แม่ค้าเหลือขนมกล้วย ห่อ

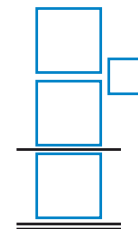
- 2 สุพรมีกระดาษทั้งหมด 99 แผ่น แบ่งให้น้องไป 46 แผ่น
สุพรเหลือกระดาษกี่แผ่น

วิธีทำ

สุพรมีกระดาษทั้งหมด

แบ่งให้น้องไป

สุพรเหลือกระดาษ



แผ่น

แผ่น

แผ่น

ตอบ สุพรเหลือกระดาษ แผ่น



- 3 ศรีดามียางรัด 95 เส้น ดวงใจมียางรัด 51 เส้น
ศรีดามียางรัดมากกว่าดวงใจกี่เส้น

วิธีทำ ศรีดามียางรัด เส้น
ดวงใจมียางรัด เส้น

ตอบ

- 4 วิภาตัดเสื้อได้ 78 ตัว อ้อมตัดเสื้อได้น้อยกว่าวิภา 12 ตัว
อ้อมตัดเสื้อได้กี่ตัว

วิธีทำ วิภาตัดเสื้อได้ ตัว
อ้อมตัดเสื้อได้น้อยกว่าวิภา ตัว

ตอบ



แบบฝึกหัด 1.26

เติมคำตอบในช่องว่าง

1 เก็บ 12 ผล เก็บ 14 ผล และ เก็บ ได้ทั้งหมดกี่ผล

ตอบ และ เก็บ ได้ทั้งหมด ผล

2 มี 6 เล่ม มี น้อยกว่า 4 เล่ม มี กี่เล่ม

ตอบ มี เล่ม





3 ฟาร์มเลี้ยงแกะมี 34 ตัว มี 23 ตัว ฟาร์มเลี้ยงแกะมี มากกว่า กี่ตัว

ตอบ ฟาร์มเลี้ยงแกะมี มากกว่า ตัว



4  ชาย  ได้ 26 ตัว ชาย  ได้ 47 ตัว  ชาย  ได้น้อยกว่า  กี่ตัว

ตอบ  ชาย  ได้น้อยกว่า  ตัว

5 แม่ซื่อ  25 ห่อ ซื่อ  12 ห่อ แม่ซื่อ  มากกว่า  กี่ห่อ

ตอบ แม่ซื่อ  มากกว่า  ห่อ

6 แม่ค้าซื่อ  50 อัน ซื่อ  38 อัน แม่ค้าซื่อ  และ  กี่อัน


ตอบ แม่ค้าซื่อ  และ  อัน



แบบฝึกหัด 1.27

เติมคำตอบในช่องว่าง

1 ลูกแขกเก็บ  ได้ 19 ผล ขายไป 16 ผล
ลูกแขกเหลือ  ก็ผล

ตอบ ลูกแขกเหลือเหลือ  ผล

2 นายแสงเก็บ  43 ช่ง เก็บ  ได้มากกว่า
25 ช่ง นายแสงเก็บ  ได้ก็ช่ง

ตอบ นายแสงเก็บ  ช่ง

3 นิดซื้อ  48 ใบ ซื้อ  มากกว่า  12 ใบ
นิดซื้อ  ก็ใบ

ตอบ นิดซื้อ  ใบ



4 ร้านค้าชาย  45 ตัว ชาย  ได้น้อยกว่า 
34 ตัว ร้านค้าชาย  ได้ก็ตัว

ตอบ ร้านค้าชาย  ได้ ตัว

5 นิดชาย  ได้ 89 ชิ้น ชาย  ได้น้อยกว่า 
27 ชิ้น นิดชาย  ได้ก็ชิ้น

ตอบ นิดชาย  ได้ ชิ้น

6 พ่อค้าชาย  ได้ 70 คู่ ต่อมาชาย  ได้อีก 28 คู่
พ่อค้าชาย  ได้ทั้งหมดก็คู่

ตอบ พ่อค้าชาย  ได้ทั้งหมด คู่



แบบฝึกหัด 1.28

1) เติมตัวเลขแสดงจำนวนใน

$$1) \quad (60 - 30) + 20 = \boxed{} + 20 \\ = \boxed{}$$

$$2) \quad (70 - 40) - 10 = \boxed{} - 10 \\ = \boxed{}$$

$$3) \quad 38 + (59 - 48) = 38 + \boxed{} \\ = \boxed{}$$

$$4) \quad 69 - (49 - 37) = 69 - \boxed{} \\ = \boxed{}$$





2 แสดงวิธีทำ

1) $99 - (68 - 4) = \square$

.....
.....
.....
.....
.....
.....
.....

ตอบ

2) $(35 + 43) - 60 = \square$

.....
.....
.....
.....
.....
.....
.....

ตอบ



$$3) \quad 78 - (33 + 21) = \square$$

.....
.....
.....
.....
.....
.....
.....

ตอบ

$$4) \quad (46 - 31) + 14 = \square$$

.....
.....
.....
.....
.....
.....
.....

ตอบ



แบบฝึกหัด 1.29

1 เติมตัวเลขแสดงจำนวนใน

$$1) \quad (56 - 35) + 48 = \boxed{} + 48$$

$$= \boxed{}$$

$$2) \quad (50 + 46) - 75 = \boxed{} - 75$$

$$= \boxed{}$$

$$3) \quad (89 - 43) - 23 = \boxed{} - 23$$

$$= \boxed{}$$

$$4) \quad 46 - (25 + 11) = 46 - \boxed{}$$

$$= \boxed{}$$





๒ แสดงวิธีทำ

1) $(81 - 30) + 46 = \square$

.....
.....
.....
.....
.....
.....
.....

ตอบ

2) $75 - (35 - 23) = \square$

.....
.....
.....
.....
.....
.....
.....

ตอบ



$$3) \quad 60 + (58 - 24) = \square$$

.....
.....
.....
.....
.....
.....

ตอบ

$$4) \quad 99 - (50 + 12) = \square$$





.....
.....
.....
.....
.....
.....

ตอบ






แบบฝึกหัด 1.30

เติมตัวเลขแสดงจำนวนและข้อความในช่องว่าง

1) พี่เก็บ  ได้ 35 ผล น้องเก็บ  ได้ 22 ผล
นำ  ไปฝากตาและยาย 24 ผล เหลือ  ก็ผล

1) โจทย์ถามอะไร เหลือส้มกี่ผล

2) โจทย์กำหนดอะไรมาให้ พี่เก็บ  ได้ ผล
น้องเก็บ  ได้ 22 ผล นำ  ไปฝากตาและยาย
 ผล

3) พี่และน้องเก็บ  ได้ก็ผล หาคำตอบโดยวิธีใด
วิธี พี่และน้องเก็บ  ได้
 ผล









4) พี่และน้องเก็บ  ได้ ผล นำ  ไปฝาก
ตาและยาย ผล เหลือ  ก็ผล หาคำตอบ
โดยวิธีใด วิธี เหลือ  ผล

5) สรุปคำตอบ


ตอบ เหลือ  ผล



๒ ทิวามี  20 ลูก สูด้าให้  ทิวาอีก 17 ลูก
 ทิวาให้  เพื่อนไป 14 ลูก ทิวาเหลือ  ก็ลูก
ตอบ ทิวาเหลือ  ลูก

๓ นักเรียนช่วยกันผูกลูกโป่ง  36 ลูก กับ  42 ลูก
 ปล่อยลูกโป่ง   ไปบนท้องฟ้า 62 ลูก เหลือลูกโป่ง
  ก็ลูก
ตอบ เหลือลูกโป่ง   ลูก

๔ ฉันทเก็บ  ได้ 50 ดอก น้องเก็บ  ได้น้อยกว่าฉัน
 10 ดอก ฉันทและน้องเก็บ  ได้ทั้งหมดกี่ดอก
ตอบ ฉันทและน้องเก็บ  ได้ทั้งหมด ดอก

๕ ป้าเก็บ  ได้ 85 ผล ให้  แม่ 31 ผล และให้  น้า
 22 ผล ป้าเหลือ  ก็ผล
ตอบ ฉันทและน้องเก็บ  ได้ทั้งหมด ผล



แบบฝึกหัด 1.31

เติมคำตอบในช่องว่าง

- 1 แม่ซื้อส้มเขียวหวานมา 12 ผล แบ่งให้ลูกไป 9 ผล
แม่ซื้อเพิ่มอีก 10 ผล ขณะนี้แม่มีส้มเขียวหวานกี่ผล

ตอบ

- 2 พ่อค้าซื้อปลาทั้งตัวมาทอดขาย 65 ตัว ช่วงเช้าขายได้
21 ตัว ช่วงบ่ายขายได้ 32 ตัว พ่อค้าเหลือปลาทั้งตัว

ตอบ

- 3 คนชายไอศกรีมมีไอศกรีม 80 ถ้วย เป็นรสวานิลลา 22 ถ้วย
เป็นรสสตรอเบอรี่ 15 ถ้วย ที่เหลือเป็นไอศกรีมรสมะม่วง
กี่ถ้วย

ตอบ

- 4 ในแข่งมีผัก 48 ผล เป็นมะละกอ 23 ผล พักเขียว 12 ผล
ที่เหลือเป็นน้ำเต้า มีน้ำเต้ากี่ผล

ตอบ

- 5 ครูซื้อข้าวกล่องให้นักเรียน 85 กล่อง เป็นข้าวหมูแดง
23 กล่อง ข้าวหน้าเป็ด 41 กล่อง ที่เหลือเป็นข้าวขาหมู
ครูซื้อข้าวขาหมูกี่กล่อง

ตอบ



แบบฝึกหัด 1.32

เติมตัวเลขแสดงจำนวน เครื่องหมาย และข้อความในช่องว่าง

1 แม่ซื้อไข่ไก่ 36 ฟอง ทำไข่ดาว 6 ฟอง ทำไข่ต้ม 10 ฟอง
แม่เหลือไข่ไก่กี่ฟอง

1) โจทย์ถามอะไร
แม่เหลือ กี่ฟอง

2) โจทย์บอกอะไร
แม่ซื้อไข่ไก่ ฟอง ทำไข่ดาว ฟอง
ทำไข่ต้ม ฟอง

3) แม่ทำไข่ดาวและไข่ต้มรวมกันได้
.....

4) จะหาจำนวนไข่ไก่ที่เหลือ ได้อย่างไร
นำจำนวน รวมกับ
จำนวน ไปลบออกจากจำนวน

5) ดังนั้น แม่เหลือไข่ไก่
.....



- ๒ จิตราเก็บดอกบัวได้ 94 ดอก ขายไป 51 ดอกแบ่งให้เพื่อนไป 22 ดอก จิตราเหลือดอกบัวกี่ดอก

วิธีทำ จิตราเก็บดอกบัวได้ ดอก
 ขายไป ดอก
 เหลือดอกบัว ดอก
 แบ่งให้เพื่อนไป ดอก
 จิตราเหลือดอกบัว ดอก

ตอบ จิตราเหลือดอกบัว ดอก

- ๓ นักเรียนชั้นประถมศึกษาปีที่ 1 มีนักกีฬาชาย 30 คน นักกีฬาหญิง 25 คน ลงแข่งกีฬาไปแล้ว 42 คน เหลือนักกีฬาที่ยังไม่ลงแข่งกี่คน

วิธีทำ นักเรียนชั้น ป.1 มีนักกีฬาชาย คน
 นักกีฬาหญิง คน
 นักเรียนชั้น ป.1 คน
 ลงแข่งกีฬาไปแล้ว คน
 เหลือนักกีฬาที่ยังไม่ลงแข่ง คน

ตอบ เหลือนักกีฬาที่ยังไม่ลงแข่ง คน



4 ในสวนสัตว์เปิดแห่งหนึ่งมีเสือ 24 ตัว มีม้าลาย 33 ตัว มีกวาง 43 ตัว จำนวนเสีอรวมกับม้าลายมากกว่ากวางกี่ตัว

<u>วิธีทำ</u> ในสวนสัตว์เปิดแห่งหนึ่งมีเสือ	ตัว
มีม้าลาย	ตัว
มีเสือและม้าลายรวมกัน	ตัว
มีกวาง	ตัว
เสีอรวมกับม้าลายมากกว่ากวาง	ตัว

ตอบ เสีอรวมกับม้าลายมากกว่ากวาง ตัว

5 ร้านตัดเสื้อมีกระดุมทั้งหมด 64 เม็ด เป็นกระดุมสีทอง 30 เม็ด กระดุมสีเงิน 22 เม็ด นอกนั้นเป็นกระดุมสีขาว มีกระดุมสีขาวกี่เม็ด

<u>วิธีทำ</u> ร้านตัดเสื้อมีกระดุมสีทอง	เม็ด
มีกระดุมสีเงิน	เม็ด
รวมกระดุมสีทองและกระดุมสีเงิน	เม็ด
ร้านตัดเสื้อมีกระดุมทั้งหมด	เม็ด
กระดุมสีทองและกระดุมสีเงินรวมกัน	เม็ด
มีกระดุมสีขาว	เม็ด

ตอบ มีกระดุมสีขาว เม็ด



แบบฝึกหัด 1.33

จากภาพ สร้างโจทย์ปัญหาการบวก การลบ การบวกลบระคน
อย่างละ 2 ข้อ



มีปลา ตัว มีไก่ ตัว และมีนก ตัว

โจทย์ปัญหาการบวก

- 1) มีปลา ตัว มีไก่ ตัว
มีปลาและไกรวมกันกี่ตัว

ตอบ มีปลาและไกรวมกัน ตัว

- 2) มีไก่ ตัว มีนก ตัว
มีไก่และนกรวมกันกี่ตัว

ตอบ มีไก่และนกรวมกัน ตัว



โจทย์ปัญหาการลบ

- 1) มีปลา ตัว มีไก่ ตัว
มีไคน้อยกว่าปลากี่ตัว

ตอบ มีไคน้อยกว่าปลา ตัว

- 2) มีไก่ ตัว มีนกก ตัว
มีนกมากกว่าไก่อีกกี่ตัว

ตอบ มีนกมากกว่าไก่ ตัว

โจทย์ปัญหาระคน

- 1) มีปลา ตัว มีไก่ ตัว และมีนก ตัว
รวมมีสัตว์ทั้งหมดกี่ตัว

ตอบ มีสัตว์ทั้งหมด ตัว

- 2) มีปลา ตัว มีไก่ ตัว และมีนก ตัว
มีปลาและไกรวมกันมากกว่านกกี่ตัว

ตอบ มีปลาและไกรวมกันมากกว่านกกี่ตัว ตัว



A large rectangular area with a decorative, scalloped border, containing horizontal dashed lines for writing.



เฉลิมพระเกียรติ โครงการจัดทำสื่อ ๖๐ พรรษา สมเด็จพระเทพรัตนราชสุดาฯ สยามบรมราชกุมารี



เฉลิมพระเกียรติ โครงการจัดทำสื่อ ๖๐ พรรษา สมเด็จพระเทพรัตนราชสุดาฯ สยามบรมราชกุมารี

ชุดกิจกรรมการเรียนรู้ (สำหรับนักเรียน)

ระดับพื้นฐาน

กลุ่มสาระการเรียนรู้คณิตศาสตร์

หน่วยการเรียนรู้ที่ ๒ การดำเนินการของจำนวน

หน่วยย่อยที่ ๒.๑ การบวก การลบ

ชั้นประถมศึกษาปีที่ ๑-๓



ชื่อ - นามสกุล..... เลขที่.....

โรงเรียน.....

สำนักงานโครงการสมเด็จพระเทพรัตนราชสุดาฯ สยามบรมราชกุมารี
สำนักงานคณะกรรมการการศึกษาขั้นพื้นฐาน สถาบันส่งเสริมการสอนวิทยาศาสตร์และเทคโนโลยี